

Итоговая контрольная работа

по окружающему миру

2 класс (Ответы)

1. Российская Федерация объединяет более 180 народов. Что означает слово «федерация»?

- А) группа
- Б) союз
- В) община

2. Найди и отметь на рисунках село

	
А	Б
	
В	Г

3. Верно ли утверждение: «Живые существа не могут жить без неживой природы»

- А) да
- Б) нет

4. Приведи примеры сезонных явлений природы

Весна- таяние снега, появление первых цветов, набухание почек и др..

Лето- гроза, радуга, роса, жара и др..

Осень- листопад, туман, заморозки, дожди и др..

Зима- мороз, снег, метели, сосульки, гололед и др..

5. Приведи пример осенних явлений в живой природе

Спячка животных, перелет птиц, линька у животных и др..

6. Отчего загрязняется вода и на что это влияет?

От сточных вод, сбросов отходов фабриками и заводами, загрязнение отходами жизнедеятельности человека

Как защитить воду от загрязнения?

Бережно относиться к окружающей среде, строить очистные сооружения



7. Приведи по два примера животных разных групп

Рыбы- акула, щука

Птицы- ласточка, цапля

Насекомые- муравей, стрекоза

Пресмыкающиеся- крокодил, жаба

Звери- корова, собака

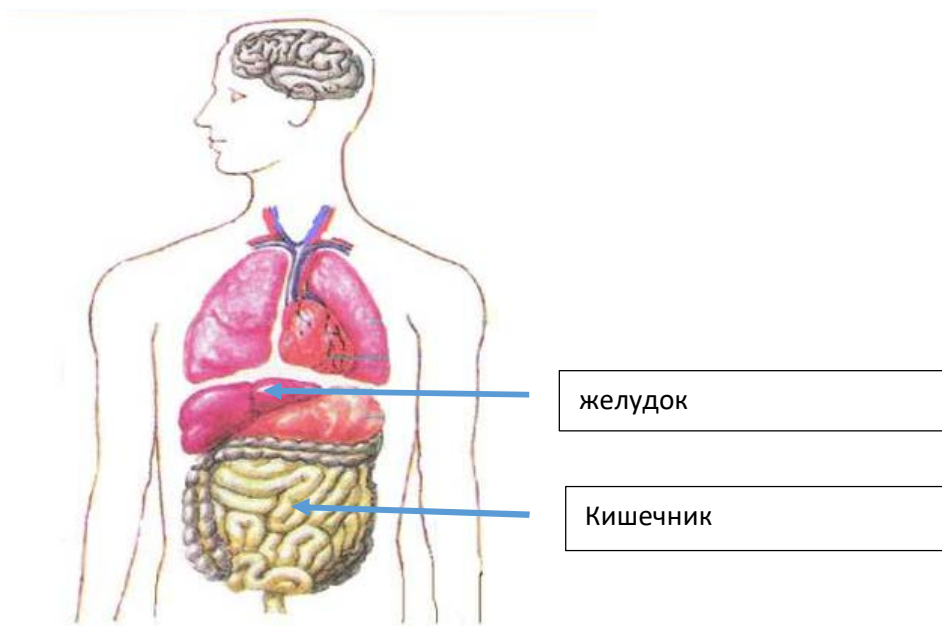
8. Продолжи схему:

Культурные растения	Овощные: лук, томат, кабачок Фруктовые: яблоки, слива, груша Зерновые: рожь, гречиха, пшеница Декоративные: роза, астра, тюльпан Прядильные: лен, конопля, хлопчатник
---------------------	---

9. В какой книге содержатся сведения о редких и исчезающих растениях и животных?


- А) атлас-определитель
- Б) энциклопедия
- В) красная книга

10. Укажи стрелками и подпиши где расположены желудок и кишечник.




11. Укажите светофор, на сигнал которого пешеход может переходить проезжую часть улицы.

А)



Б)



В)



12. В случае пожара нужно звонить по телефону

А) 01

Б) 02

В) 03

13. Среди перечисленных ягод и грибов подчеркни только ядовитые виды:

Лисичка, малина, мухомор, жимолость, бледная поганка, сыроежка, вороний глаз, белый гриб, подосиновик, волчье лыко, смородина.

14. Вычеркни несуществующие стороны света

Северо-запад, юго-запад, юго-восток, ~~западный север~~, ~~восток юг~~, ~~северо юг~~, юго-запад, ~~западо-восток~~.

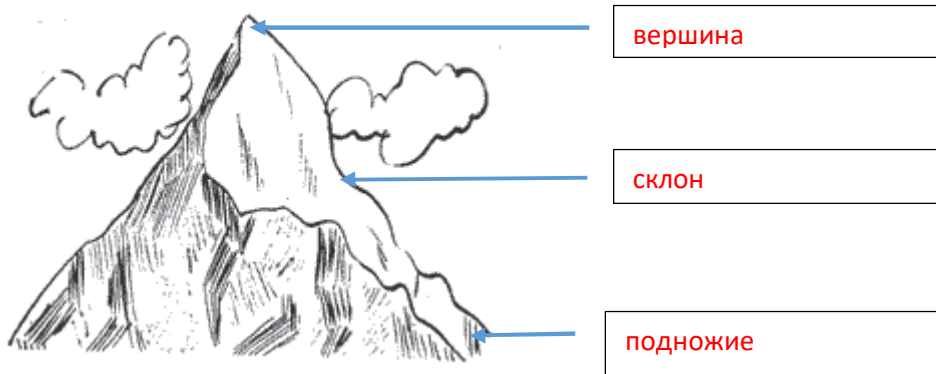
15. Перечисли основные стороны горизонта

Север, юг, запад, восток

16. Какие способы ориентирования на местности ты знаешь?

По мху, по деревьям, по муравейнику, по звездам, по компасу, по коре березы, по проталинам.

17. Подпишите части горы



18. Из перечисленных водоемов подчеркни только пресные
Море, пруд, река, океан, ручей, родник, озеро.

19. Каким цветом на карте обозначаются горы?

А) зеленым

Б) голубым

В) **коричневым**

20. Подпиши материк, на котором расположена наша Родина.

