

Итоговая контрольная работа





по окружающему миру

2 класс

1. Российская Федерация объединяет более 180 народов. Что означает слово «федерация»?

- А) группа
- Б) союз
- В) община

2. Найди и отметь на рисунках село

 <p>А</p>	 <p>Б</p>
 <p>В</p>	 <p>Г</p>

3. Верно ли утверждение: «Живые существа не могут жить без неживой природы»

- А) да
- Б) нет

4. Приведи примеры сезонных явлений природы

Весна- \_\_\_\_\_

Лето- \_\_\_\_\_

Осень- \_\_\_\_\_

Зима- \_\_\_\_\_

5. Приведи пример осенних явлений в живой природе

\_\_\_\_\_

6. Отчего загрязняется вода и на что это влияет?

\_\_\_\_\_

Как защитить воду от загрязнения?

\_\_\_\_\_



7. Приведи по два примера животных разных групп

Рыбы-

Птицы-

Насекомые-

Пресмыкающиеся-

Звери-

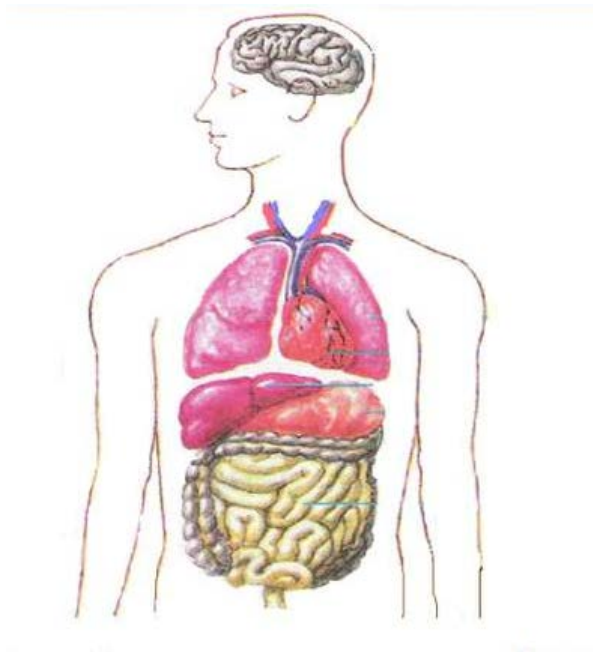
8. Продолжи схему:

Культурные растения	Овощные: лук,... Плодовые: Зерновые: Декоративные: Прядильные:
---------------------	--

9. В какой книге содержатся сведения о редких и исчезающих растениях и животных?

- А) атлас-определитель
- Б) энциклопедия
- В) красная книга

10. Укажи стрелками и подпиши где расположены желудок и кишечник.



11. Укажите светофор, на сигнал которого пешеход может переходить проезжую часть улицы.

А)



Б)



В)



12. В случае пожара нужно звонить по телефону

А) 01

Б) 02

В) 03

13. Среди перечисленных ягод и грибов подчеркни только ядовитые виды:

Лисичка, малина, мухомор, жимолость, бледная поганка, сыроежка, вороний глаз, белый гриб, подосиновик, волчье лыко, смородина.

14. Вычеркни несуществующие стороны света

Северо-запад, юго-запад, юго-восток, западный север, восток-юг, северо-юг, юго-запад, западо-восток.

15. Перечисли основные стороны горизонта

---

16. Какие способы ориентирования на местности ты знаешь?

---

---

17. Подпишите части горы



18. Из перечисленных водоемов подчеркни только пресные  
Море, пруд, река, океан, ручей, родник, озеро.

19. Каким цветом на карте обозначаются горы?

- А) зеленым
- Б) голубым
- В) коричневым

20. Подпиши материк, на котором расположена наша Родина.

