



12. Лисёнок Чип на свой день рождения в сентябре получил подарки-сувениры от друзей из пяти стран. Какой подарок ему прислали из Финляндии?



13. Рис – одна из важнейших зерновых продовольственных культур в мире. Для многих стран Азии рис является основным (национальным) продуктом питания. Больше всего риса производят в Китае и Индии на заливных полях. На какой картинке изображена рисовая плантация?



14. В русской народной сказке «Вершки и корешки» медведь и мужик посеяли репу. Мужик взял себе корешки (картинка слева), а медведю достались вершки. На какой картинке изображены вершки репы?



15. Какое из этих животных не обитает в тайге?



Время, отведённое на выполнение заданий, – 30 минут.

Новосибирский центр продуктивного обучения

1 класс

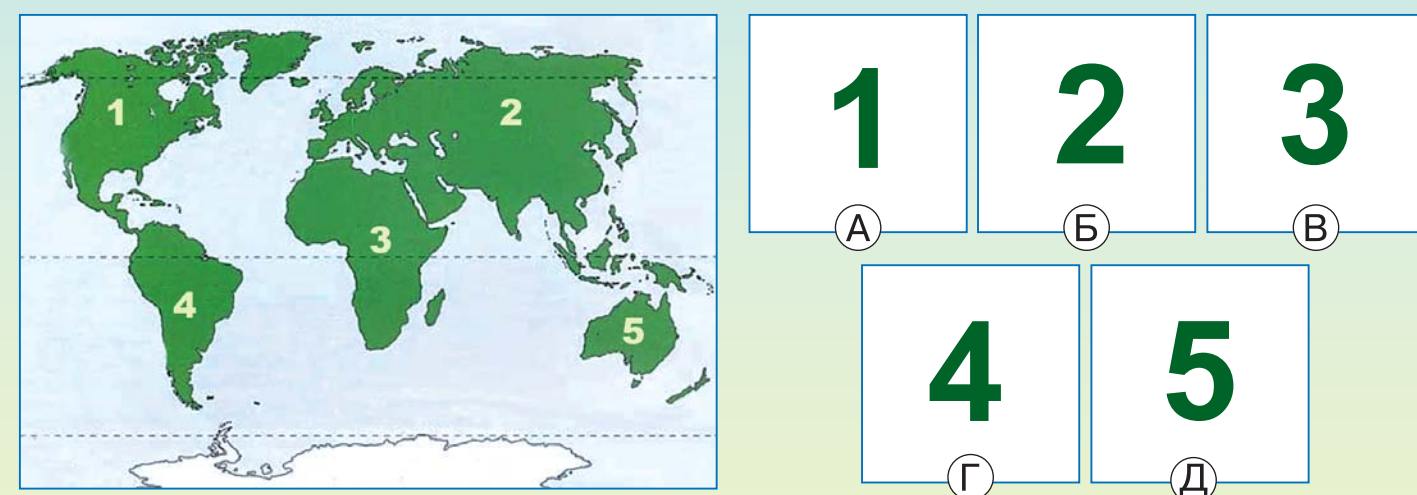
# Человек и природа

МЕЖДУНАРОДНЫЙ ИГРОВОЙ КОНКУРС


www.konkurs-chip.ru

22 октября 2020 года

1. Какой цифрой на карте обозначена Евразия?



2. На фотографиях изображены столицы разных стран Евразии. Найдите фотографию с изображением столицы России.




3. Найдите на картинках самое крупное наземное млекопитающее Евразии.



4. У Агии Барто есть строки:  
*А когда на ветку ели  
 Мы получше поглядели,  
 Найдите ветку ели.*

*Оказалось, что она  
 Не такая, как сосна.*




5. На картине русских художников Ивана Ивановича Шишкина и Константина Аполлоновича Савицкого «Утро в сосновом лесу» изображены ...



6. *У лукоморья дуб зелёный,  
 Златая цепь на дубе том:  
 И днём и ночью кот учёный  
 Всё ходит по цепи кругом...*



Художник Павел Андреевич Оринянский так изобразил сказочный дуб из поэмы Александра Сергеевича Пушкина. Найдите на рисунках лист настоящего дуба.




7. В Евразии расположены разные природные зоны. На какой картинке изображена степь?



8. В русских народных сказках часто встречается репа. Какое растение почти полностью заменило репу в нашем питании?



9. Одуванчик лекарственный – широко распространённое растение в лесах и степях России. На фотографии справа изображены плоды одуванчика – семечки. Найдите фотографию с цветками одуванчика.



10. В смешанных лесах встречается этот ядовитый гриб.



11. Кто живёт в этом домике?

