



**Задания Всероссийского конкурса  
«Кит — компьютеры, информатика,  
технологии»**

[www.konkurskit.org](http://www.konkurskit.org)

*При необходимости задания могут зачитываться учителем.*

*Продолжительность тестирования – 45 минут.*

2015 год

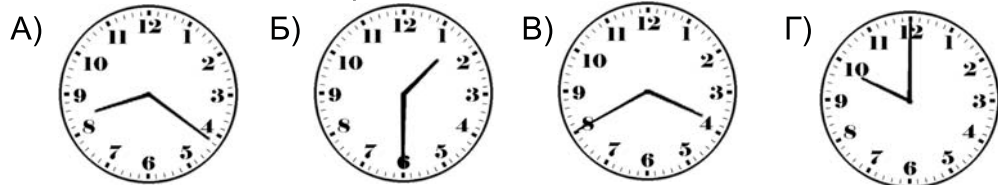
1 класс

**Задания, оцениваемые в 3 балла**

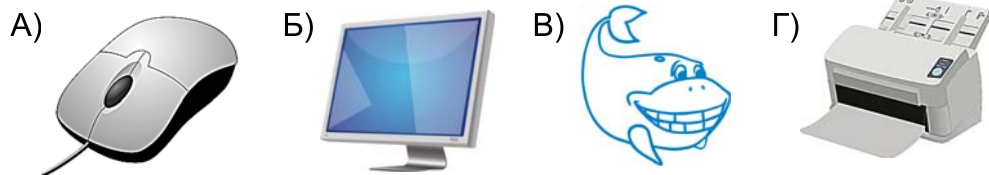
1. Вот часы.



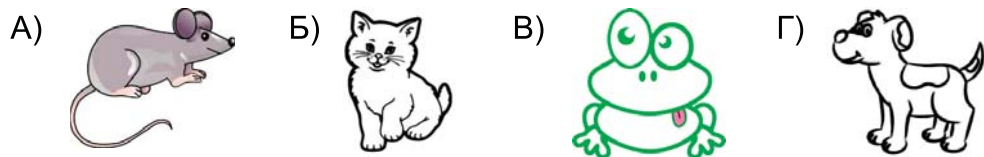
Найди часы с тем же временем.



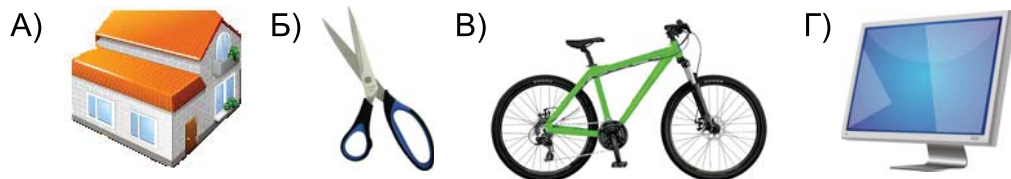
2. Выбери лишнее.



3. В честь какого животного названо устройство, с помощью которого управляют указателем на экране монитора?




4. Какой предмет используется при работе на компьютере?



5. Антивирусные программы необходимы для ...

- A) защиты от гриппа                      Б) дезинфекции рук перед едой  
В) защиты растений                      Г) защиты компьютера от вирусов

6. Количество каких предметов одинаково?




- A) ракет и самолётов                      Б) вертолётов и самолётов  
В) машин и вертолётов                      Г) ракет и машин

7. Выбери большой предмет.

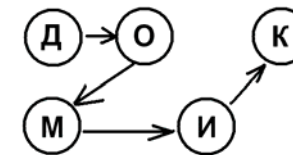


8. Составь слово по первым буквам.



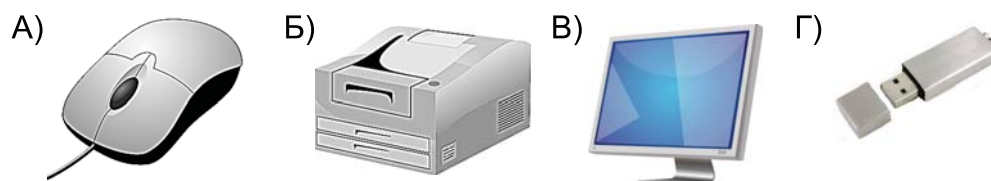
- A) китёнок                      Б) котёнок                      В) компьютер                      Г) кубик

9. Прочитай, двигаясь по стрелкам.



- A) домик                      Б) домки  
В) дмоки                      Г) кимод

10. Какой предмет распечатывает текст на бумаге?



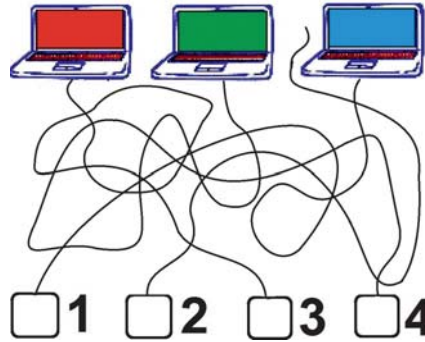
**Задания, оцениваемые в 4 балла**

11. Зачеркни слова «башмак», «суп», «лев», «мир», «рот», «дым». Какое слово осталось?

б	а	ш	м	а	к
л	к	и	т	д	р
е	м	и	р	ы	о
в	с	у	п	м	т


- А) дом                      Б) все  
В) крот                    Г) кит

12. Три компьютерные мышки присоединены к ноутбукам, а одна – нет. Какая **НЕ** присоединена?



- А) 1                      Б) 2  
В) 3                      Г) 4

13. Какая дорожка отделяет грибы от ягод?



- А) 1                      Б) 2  
В) 3                      Г) 4

14. Информацию в Интернете **НЕ** поможет искать...

- А) Гугл                    Б) Собака                    В) Яндекс                    Г) Рамблер

15. Заполни таблицу числами 1, 2, 3, 4, 5, 6, 7, 8, 9, как показано стрелками на картинке. Какое число будет стоять в клетке А?

	1	2	3		
			4	А	
			5		

- А) 6                      Б) 7                      В) 8                      Г) 9

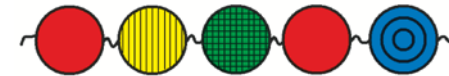
**Задания, оцениваемые в 5 баллов**

16. Какое понятие объединяет все картинки?



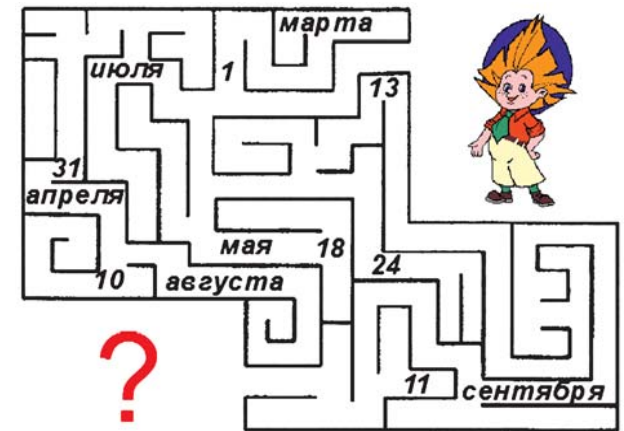
- А) животные            Б) почта                    В) птицы                    Г) клавиатура

17. Какой браслет получится, если соединить концы цепочки из бусинок?



- А)    Б)    В)    Г)

18. Пройдя по лабиринту кратчайшим путём, узнай, когда бывает День программиста.



- А) 10 апреля            Б) 11 сентября            В) 13 сентября            Г) 31 июля