

17. В Азии среди горных хребтов Сибири находится Байкал – самое глубокое в мире озеро, которое по форме напоминает месяц. На какой фотографии изображён Байкал?



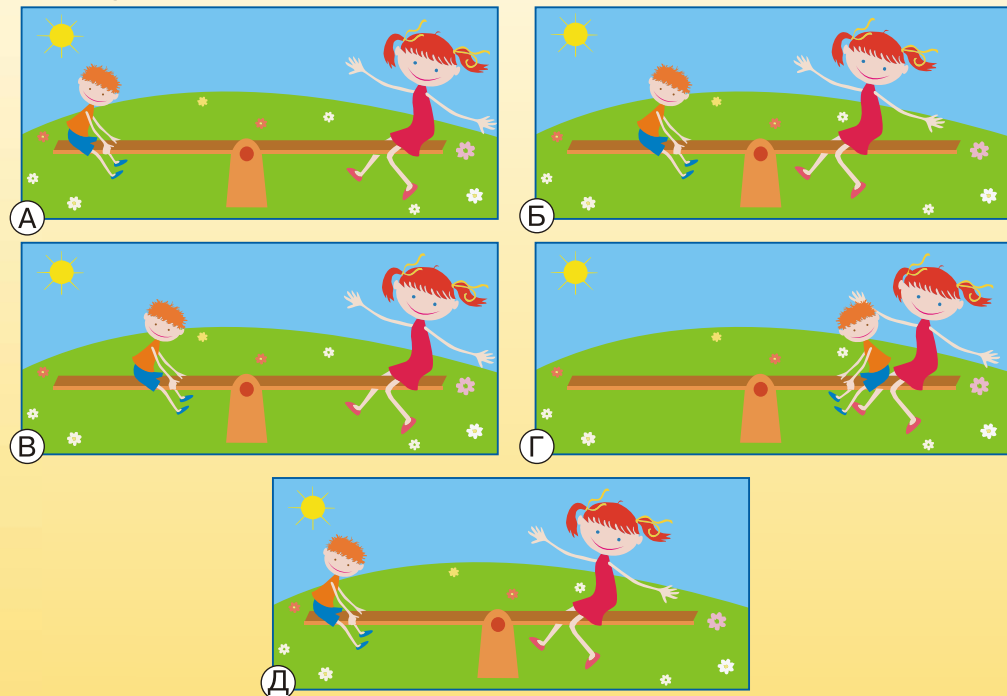
18. Из великих рек азиатской части России в сторону Тихого океана течёт только ...

- (А) Амур; (Б) Енисей; (В) Иртыш; (Г) Лена; (Д) Обь.

19. Из яйца не мог появиться ...



20. Чтобы на качелях установилось равновесие и детям было удобно качаться, они должны сесть на качели так, как показано на рисунке:



Время, отведенное на выполнение заданий, – 40 минут.

Институт продуктивного обучения
Новосибирский центр продуктивного обучения

Человек и природа

МЕЖДУНАРОДНЫЙ КОНКУРС

7 апреля 2016 года

1–2 класс



..... Задания, оцениваемые в 3 балла

1. Азия – это ...

- (А) страна; (Б) континент; (В) часть света;
(Г) остров; (Д) планета солнечной системы.


2. На фотографии – первый космонавт Юрий Гагарин. Космодром, с которого стартовала в космос первая ракета с человеком на борту, находится в ...

- (А) Казахстане; (Б) Кыргызстане; (В) Узбекистане;
(Г) России; (Д) Туркменистане.




2

3. Это животное самое большое в Азии.



4. С севера Азию омывает ... океан.

- (А) Индийский; (Б) Южный; (В) Северный Ледовитый;
(Г) Атлантический; (Д) Тихий.



5

5. На фотографии древний памятник архитектуры мира – Великая ... стена.

- (А) Японская;
(Б) Индийская;
(В) Монгольская;
(Г) Китайская;
(Д) Узбекская.


6. В сказке Туве Янсон «Волшебная зима» Туу-тикки говорит Муми-троллю о снеге:

– Думаешь, он холодный, а если вылепить из него снежный домик, там становится тепло. Он кажется белым, но иногда он розовый, иногда – голубой. Он может быть мягче всего на свете, а может быть твёрже камня. О нём ничего нельзя знать наверняка.

Каким снег не может быть?

- (А) мягким; (Б) твёрдым; (В) липким; (Г) пушистым; (Д) жидким.

7. Какое из животных, изображённых на рисунках, не было другом Маугли, героя книги Редьярда Киплинга «Книга Джунглей»?



..... Задания, оцениваемые в 4 балла

8. Лисёнок Чип, собираясь в путешествие по Азии, записывал о ней интересные факты. Одна запись оказалась неправильной. Какая?

- (А) Часть России находится в Азии.
 (Б) Азия со всех сторон окружена морями и океанами.
 (В) В Азии есть пустыни.
 (Г) Столица России Москва расположена не в Азии.
 (Д) В Азии самые высокие горы.




9. На рисунке художника Вячеслава Назарука – иллюстрация к сказу П. Бажова «Медной горы Хозяйка». О каких горах, разделяющих Европу и Азию, идёт речь в сказах Бажова?

- (А) Кавказских; (Б) Уральских;
 (В) Саянских; (Г) Тянь-Шане; (Д) Альпах.

10. Это лакомство имеет азиатские корни.

- (А) халва; (Б) попкорн; (В) марципан;
 (Г) пломбир; (Д) макадамия.



11. На рисунке – фрагмент картины Николая Рериха о Монголии. Жилище, изображённое на нём, называется ...

- (А) иглу; (Б) шалаш; (В) юрта;
 (Г) чум; (Д) вигвам.

12. «Кораблём пустыни» называют ...



13. Знаменитый сибирский кедр в действительности – это ...

- (А) ель; (Б) можжевельник; (В) пихта;
 (Г) сосна; (Д) араукария.

14. На бумажных куколках национальные костюмы ...

- (А) Китая; (Б) Вьетнама; (В) России;
 (Г) Японии; (Д) Индии.



..... Задания, оцениваемые в 5 баллов

15. На севере азиатской части России огромные пространства заняты тайгой, в которой преобладают хвойные деревья. На каком рисунке изображена тайга?



16. Главная зерновая культура, которую выращивают в Азии, – это...

- (А) пшеница; (Б) рис; (В) кукуруза; (Г) ячмень; (Д) просо.