

Проверочная работа
по предмету «ОКРУЖАЮЩИЙ МИР»

4 класс

Вариант 15

Инструкция по выполнению работы

На выполнение работы по предмету «Окружающий мир» даётся 45 минут. Работа состоит из двух частей и включает в себя 10 заданий.

Ответы на задания запиши в поля ответов в тексте работы. Если ты хочешь изменить ответ, то зачеркни его и запиши рядом новый.

При выполнении работы не разрешается пользоваться учебником, рабочими тетрадями и другими справочными материалами.

При необходимости можно пользоваться черновиком. Записи в черновике проверяться и оцениваться не будут.


Советуем выполнять задания в том порядке, в котором они даны. Для экономии времени пропускай задание, которое не удаётся выполнить сразу, и переходи к следующему. Если после выполнения всей работы у тебя останется время, то ты сможешь вернуться к пропущенным заданиям. Постарайся выполнить как можно больше заданий.

Желаем успеха!

Часть 1

1. Рассмотрни рисунок, на котором изображена клумба. Ограждение клумбы изготовлено из металла. Оно отмечено на рисунке стрелкой с соответствующей надписью.

Покажи на рисунке стрелкой любой предмет (любую деталь) из дерева и любой предмет (любую деталь) из камня. Подпиши название соответствующего материала рядом с каждой стрелкой.



2

На интернет-сайтах погоды можно встретить подобные таблицы. Изучи прогноз погоды на трое суток.

	Суббота, 23 октября				Воскресенье, 24 октября				Понедельник, 25 октября			
	Ночь	Утро	День	Вечер	Ночь	Утро	День	Вечер	Ночь	Утро	День	Вечер
Облачность и атмосферные осадки												
Температура воздуха, °С	3	4	6	2	1	3	5	3	1	5	7	5
Направление ветра												
	Ю	Ю	ЮВ	ЮВ	СВ	СВ	СВ	СВ	С	В	ЮВ	В
Влажность воздуха, %	79	81	87	87	90	90	86	84	87	78	80	82

Выбери все верные утверждения об ожидаемой погоде на эти трое суток и запиши в строку ответа их номера.

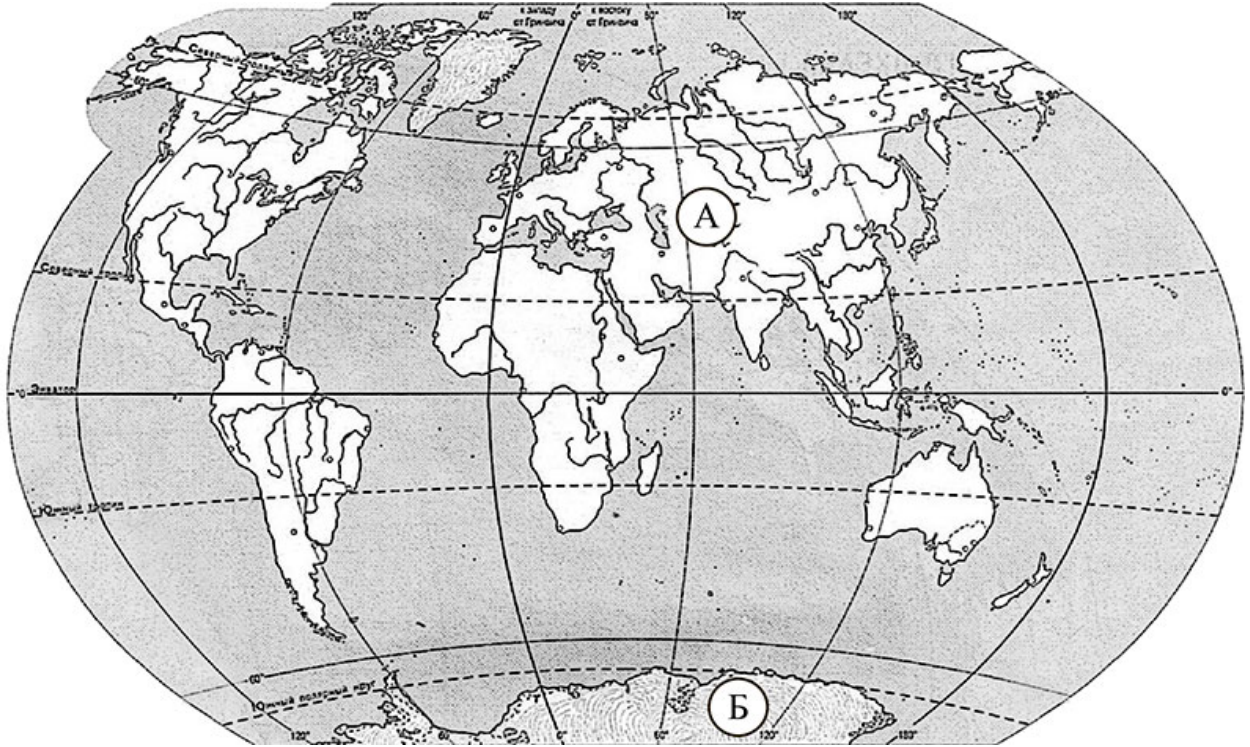
- 1) В субботу ожидается облачная погода с прояснениями без осадков.
- 2) В воскресенье влажность воздуха не поднимется выше 86%.
- 3) В понедельник будет преобладать северо-восточный ветер.
- 4) На протяжении всех трёх суток температура воздуха будет выше 0 °С.

Ответ: _____

Рассмотри карту, фотографии и выполни задание 3.

3

Рассмотри карту мира. На ней буквами А и Б отмечены два материка.



3.1. Запиши название каждого материка в отведённое для этого поле.

Название материка (А):

Название материка (Б):

3.2. На следующей странице представлены фотографии *императорского пингвина, морского леопарда, рыси и большой панды*. Запиши название каждого из этих животных рядом с номером фотографии, на которой оно изображено.

1) _____ 2) _____

3) _____ 4) _____

3.3. Какие из этих животных обитают в естественной среде (не в зоопарке) на материке А, а какие – на материке Б? Запиши в таблицу **номера** фотографий с изображением этих животных.

Ответ:

Материк	А	Б
Животные		



1)



2)



3)



4)

4

Составь два правила сохранения здоровья человека из приведённых частей фраз: для этого к каждой позиции первого столбца подбери соответствующую позицию из второго столбца.

Начало фразы

- А) Чтобы избежать инфекции в полости рта,
- Б) Чтобы успевать выполнять уроки, заняться любимым делом и поиграть с друзьями,

Продолжение фразы

- 1) распределяй правильно своё время и соблюдай режим дня.
- 2) совершай перед сном непродолжительную прогулку.
- 3) чисти зубы два раза в день.

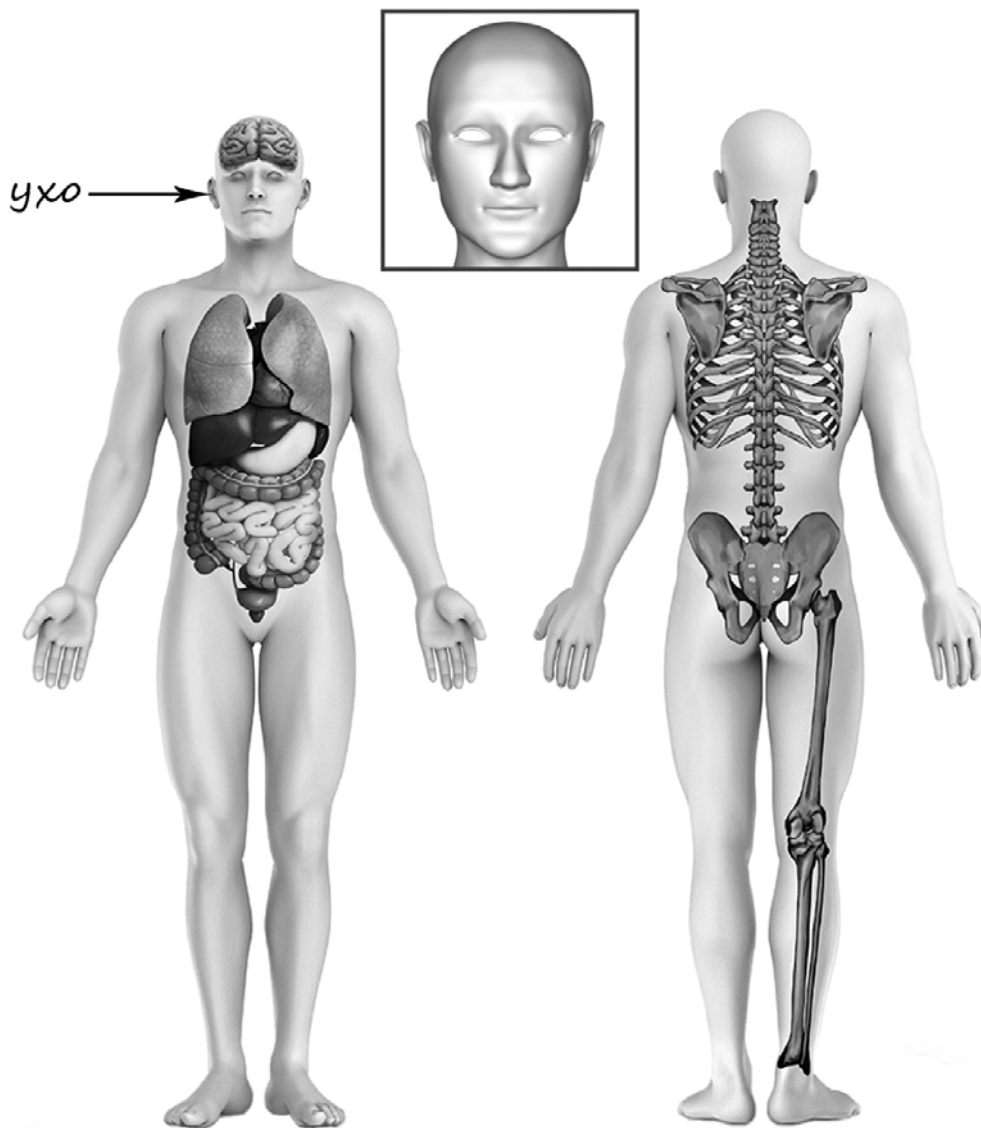
Запиши в таблицу выбранные цифры под соответствующими буквами.



Ответ:

Начало фразы	А	Б
Продолжение фразы		

- 5) Рассмотрите изображение человека. Покажите стрелками и подпишите *лоб*, *икру* и *лёгкое* человека так, как показано на примере.



6

В жаркий солнечный день Алёна решила провести опыт с испарением воды. Она взяла две одинаковые по форме ёмкости – металлические кастрюли, налила в них одинаковое количество тёплой воды одинаковой температуры и поставила одну кастрюлю на освещённое солнцем место, а другую в прохладное тенистое место. Через некоторое время Алёна заметила, что в кастрюле, находящейся на солнце, воды осталось меньше, чем в кастрюле, находящейся в тени.

6.1. Сравни условия испарения воды в ёмкостях в описанном опыте. Подчеркни в каждой строке одно из выделенных слов.

Форма ёмкостей: **одинаковая / различная**

Исходное количество воды в ёмкостях: **одинаковое / различное**

Температура окружающего воздуха: **одинаковая / различная**

6.2. Сделай вывод о том, как влияет температура окружающего воздуха на скорость испарения воды.

Ответ: _____

6.3. Если бы Алёна захотела выяснить, влияет ли исходная температура воды на скорость её испарения, с помощью какого опыта она могла бы это сделать? Опиши этот опыт.

Ответ: _____

Часть 2

При выполнении заданий 7–10 последовательно отвечай на каждый из представленных вопросов. Ответы записывай чётко и разборчиво, соблюдая нормы речи.

7) Рассмотрите знаки, изображённые на рисунках. Как ты думаешь, что, кроме формы, объединяет все эти знаки?

Ответ: _____



1)



2)



3)

Какое правило отражает каждый из этих знаков? Напиши эти правила.

1 – _____

2 – _____

3 – _____

8 На фотографиях изображены люди разных профессий за работой. Выбери ОДНУ из фотографий и запиши букву, под которой она приведена.

Представитель какой профессии изображён на фотографии? Какую работу выполняют люди этой профессии? Чем работа людей этой профессии полезна обществу?

А)



Б)



В)



Выбранная фотография:

Ответ: _____

9 5 июня – Всемирный день окружающей среды. В этот день в России отмечают День эколога.
Обведи эту дату в календаре.

2018

Январь

ПН	ВТ	СР	ЧТ	ПТ	СБ	ВС
1	2	3	4	5	6	7
8	9	10	11	12	13	14
15	16	17	18	19	20	21
22	23	24	25	26	27	28
29	30	31				

Февраль

ПН	ВТ	СР	ЧТ	ПТ	СБ	ВС
			1	2	3	4
5	6	7	8	9	10	11
12	13	14	15	16	17	18
19	20	21	22	23	24	25
26	27	28				

Март

ПН	ВТ	СР	ЧТ	ПТ	СБ	ВС
			1	2	3	4
5	6	7	8	9	10	11
12	13	14	15	16	17	18
19	20	21	22	23	24	25
26	27	28	29	30	31	

Апрель

ПН	ВТ	СР	ЧТ	ПТ	СБ	ВС
						1
2	3	4	5	6	7	8
9	10	11	12	13	14	15
16	17	18	19	20	21	22
23	24	25	26	27	28	29
30						

Май

ПН	ВТ	СР	ЧТ	ПТ	СБ	ВС
	1	2	3	4	5	6
7	8	9	10	11	12	13
14	15	16	17	18	19	20
21	22	23	24	25	26	27
28	29	30	31			

Июнь

ПН	ВТ	СР	ЧТ	ПТ	СБ	ВС
			1	2	3	
4	5	6	7	8	9	10
11	12	13	14	15	16	17
18	19	20	21	22	23	24
25	26	27	28	29	30	

Июль

ПН	ВТ	СР	ЧТ	ПТ	СБ	ВС
						1
2	3	4	5	6	7	8
9	10	11	12	13	14	15
16	17	18	19	20	21	22
23	24	25	26	27	28	29
30	31					

Август

ПН	ВТ	СР	ЧТ	ПТ	СБ	ВС
			1	2	3	4
5	6	7	8	9	10	11
12	13	14	15	16	17	18
19	20	21	22	23	24	25
26	27	28	29	30	31	

Сентябрь

ПН	ВТ	СР	ЧТ	ПТ	СБ	ВС
					1	2
3	4	5	6	7	8	9
10	11	12	13	14	15	16
17	18	19	20	21	22	23
24	25	26	27	28	29	30

Октябрь

ПН	ВТ	СР	ЧТ	ПТ	СБ	ВС
1	2	3	4	5	6	7
8	9	10	11	12	13	14
15	16	17	18	19	20	21
22	23	24	25	26	27	28
29	30	31				

Ноябрь

ПН	ВТ	СР	ЧТ	ПТ	СБ	ВС
			1	2	3	4
5	6	7	8	9	10	11
12	13	14	15	16	17	18
19	20	21	22	23	24	25
26	27	28	29	30		

Декабрь

ПН	ВТ	СР	ЧТ	ПТ	СБ	ВС
						1
2	3	4	5	6	7	8
9	10	11	12	13	14	15
16	17	18	19	20	21	22
23	24	25	26	27	28	29
30	31					

Запиши, на какой день недели приходится эта дата в 2018 году.

Ответ: _____

Почему охране окружающей среды в настоящее время уделяется пристальное внимание во всех развитых странах мира? (Напиши ответ объёмом до пяти предложений).

Ответ: _____

10

10.1. Запиши название региона: республики, или области, или края, или города, или автономного округа, в котором ты живёшь.

Ответ: _____



Как называется главный город твоего региона?

Ответ: _____

10.2. В какой природной зоне расположен твой регион?

Ответ: _____

Какие известные люди живут или жили в твоём регионе (укажи не менее двух известных людей)? Напиши об одном из известных твоих земляков. Чем он прославил свой регион?

Ответ: _____