

**Проверочная работа  
по предмету «ОКРУЖАЮЩИЙ МИР»**

**4 класс**

**Вариант 17**

**Инструкция по выполнению работы**

На выполнение работы по предмету «Окружающий мир» даётся 45 минут. Работа состоит из двух частей и включает в себя 10 заданий.

Ответы на задания запиши в поля ответов в тексте работы. Если ты хочешь изменить ответ, то зачеркни его и запиши рядом новый.

При выполнении работы не разрешается пользоваться учебником, рабочими тетрадями и другими справочными материалами.

При необходимости можно пользоваться черновиком. Записи в черновике проверяться и оцениваться не будут.

Советуем выполнять задания в том порядке, в котором они даны. Для экономии времени пропускай задание, которое не удаётся выполнить сразу, и переходи к следующему. Если после выполнения всей работы у тебя останется время, то ты сможешь вернуться к пропущенным заданиям. Постарайся выполнить как можно больше заданий.

***Желаем успеха!***

## Часть 1

1

























Рассмотри рисунок, на котором изображён продовольственный магазин. Упаковочный пакет сделан из бумаги. Он отмечен на рисунке стрелкой с соответствующей надписью.

Покажи на рисунке стрелкой любой предмет (любую деталь) из стекла и любой предмет (любую деталь) из металла. Подпиши название соответствующего материала рядом с каждой стрелкой.



2

На интернет-сайтах погоды можно встретить подобные таблицы. Изучи прогноз погоды на трое суток.

	Вторник, 27 мая				Среда, 28 мая				Четверг, 29 мая			
	Ночь	Утро	День	Вечер	Ночь	Утро	День	Вечер	Ночь	Утро	День	Вечер
Облачность и атмосферные осадки												
Температура воздуха, °С	21	23	23	22	20	21	22	22	20	18	17	14
Направление ветра												
	Ю	Ю	ЮВ	ЮВ	СВ	СВ	СВ	СВ	СВ	С	С	С
Влажность воздуха, %	79	71	57	77	74	68	56	73	76	66	60	67

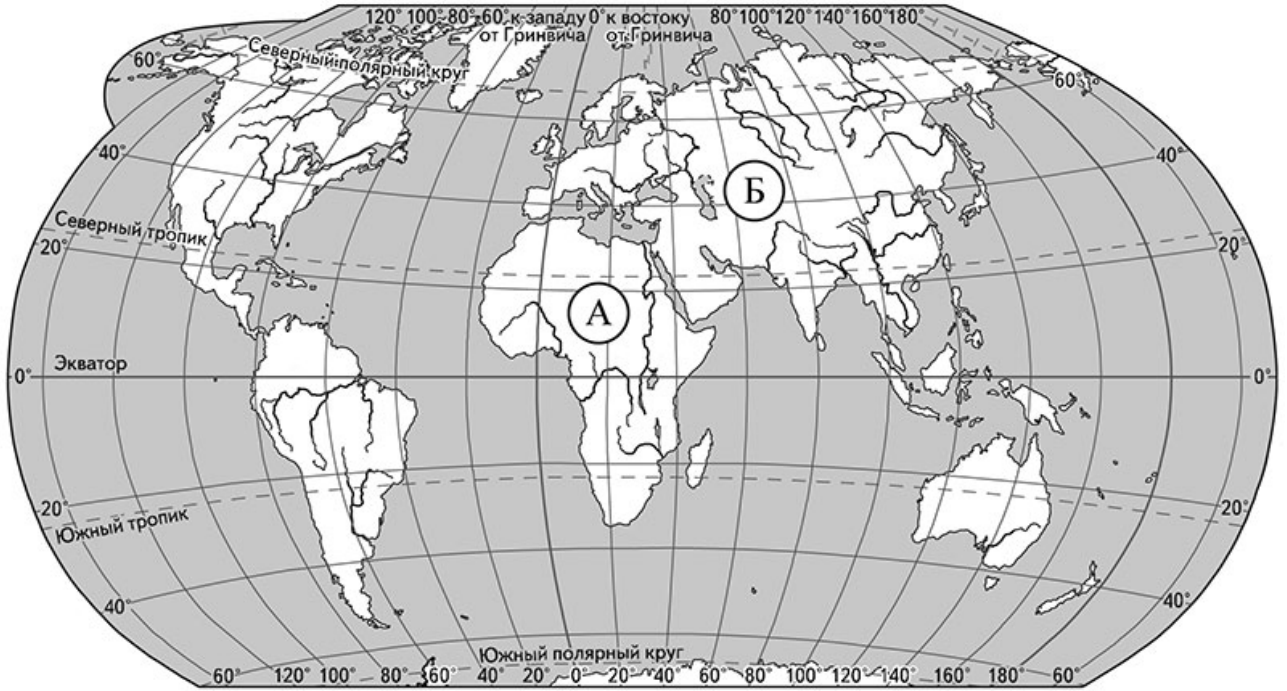
Выбери все верные утверждения об ожидаемой погоде на эти трое суток и запиши в строку ответа их номера.

- 1) Во вторник будет преобладать облачная погода без осадков.
- 2) В среду ожидается юго-восточный ветер.
- 3) К вечеру в четверг ожидается понижение температуры.
- 4) На протяжении всех трёх суток влажность воздуха не превысит 56%.

Ответ: \_\_\_\_\_

**Рассмотри карту, фотографии и выполни задание 3.**

**3** Рассмотри карту мира. На ней буквами А и Б отмечены два материка.



3.1. Запиши название каждого материка в отведённое для этого поле.

Название материка **А** :

Название материка **Б** :

\_\_\_\_\_

3.2. На следующей странице представлены фотографии *песца*, *льва*, *большой панды* и *нильского крокодила*. Запиши название каждого из этих животных рядом с номером фотографии, на которой оно изображено.

1) \_\_\_\_\_ 2) \_\_\_\_\_

3) \_\_\_\_\_ 4) \_\_\_\_\_

3.3. Какие из этих животных обитают в естественной среде (не в зоопарке) на материке А, а какие – на материке Б? Запиши в таблицу **номера** фотографий с изображением этих животных.

Ответ:

Материк	А	Б
Животные		



1)



2)



3)



4)

- 4) Составь два правила сохранения здоровья человека из приведённых частей фраз: для этого к каждой позиции первого столбца подбери соответствующую позицию из второго столбца.

**Начало фразы**

- А) Чтобы сохранить ноги сухими, выходя на улицу в сырую погоду,
- Б) Чтобы избежать возникновения лесного пожара,

**Продолжение фразы**

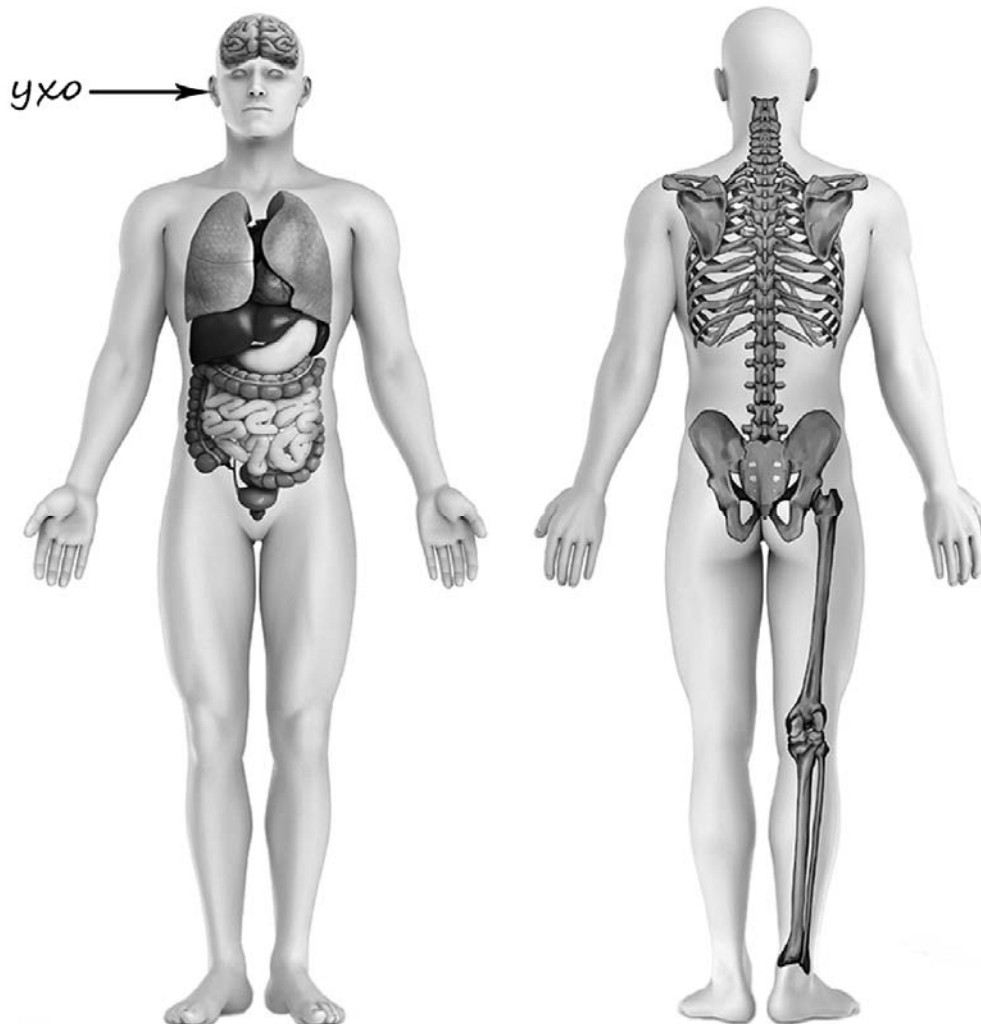
- 1) надень непромокаемую обувь.
- 2) не купайся без взрослых, если не умеешь плавать.
- 3) не разжигай костёр вблизи деревьев.

Запиши в таблицу выбранные цифры под соответствующими буквами.

Ответ:

Начало фразы	А	Б
Продолжение фразы		

- 5) Рассмотрите изображение человека. Покажите стрелками и подпишите *пятку*, *кисть* и *желудок* человека так, как показано на примере.



6

Полина решила провести опыт с растворимостью соли в воде. Чтобы выяснить, влияет ли количество соли на скорость её растворения, она взяла два одинаковых прозрачных стакана, наполнила их наполовину тёплой водой с температурой 40 °С. В первый стакан Полина насыпала одну чайную ложку соли, а во второй – три чайные ложки. Оба стакана она оставила на столе и стала наблюдать за растворением соли.

6.1. Сравни условия растворения соли в стаканах в описанном опыте. Подчеркни в каждой строке одно из выделенных слов.

Количество воды в стаканах: **одинаковое / различное**

Температура воды в стаканах: **одинаковая / различная**

Количество соли в стаканах: **одинаковое / различное**

6.2. Какие измерения и сравнения нужно провести Полине, чтобы определить, как количество соли влияет на скорость её растворения?

Ответ: \_\_\_\_\_

6.3. Если бы Полина захотела выяснить, влияет ли количество воды в стакане на скорость растворения соли, с помощью какого опыта она могла бы это сделать? Опиши этот опыт.

Ответ: \_\_\_\_\_

Часть 2

*При выполнении заданий 7–10 последовательно отвечай на каждый из представленных вопросов. Ответы записывай чётко и разборчиво, соблюдая нормы речи.*

7) Рассмотрите знаки, изображённые на рисунках. Как ты думаешь, где могут быть установлены все эти знаки?

□ Ответ: \_\_\_\_\_  
\_\_\_\_\_  
\_\_\_\_\_



1)



2)



3)

Какое правило отражает каждый из этих знаков? Напиши эти правила.

1 – \_\_\_\_\_  
\_\_\_\_\_

2 – \_\_\_\_\_  
\_\_\_\_\_

3 – \_\_\_\_\_  
\_\_\_\_\_





8 На фотографиях изображены предметы, которые используют представители одной профессии.

Представители какой профессии используют изображённые на фотографиях предметы? Какую работу выполняют люди этой профессии? Чем работа людей этой профессии полезна обществу?



□ Ответ: \_\_\_\_\_

\_\_\_\_\_

\_\_\_\_\_

\_\_\_\_\_

\_\_\_\_\_

\_\_\_\_\_

\_\_\_\_\_

- 9 День народного единства – российский государственный праздник, он отмечается 4 ноября.  
Обведи эту дату в календаре.

## 2018

Январь							Февраль							Март							Апрель						
ПН	ВТ	СР	ЧТ	ПТ	СБ	ВС	ПН	ВТ	СР	ЧТ	ПТ	СБ	ВС	ПН	ВТ	СР	ЧТ	ПТ	СБ	ВС	ПН	ВТ	СР	ЧТ	ПТ	СБ	ВС
1	2	3	4	5	6	7				1	2	3	4	5	6	7	8	9	10	11	2	3	4	5	6	7	8
8	9	10	11	12	13	14	5	6	7	8	9	10	11	12	13	14	15	16	17	18	9	10	11	12	13	14	15
15	16	17	18	19	20	21	12	13	14	15	16	17	18	19	20	21	22	23	24	25	16	17	18	19	20	21	22
22	23	24	25	26	27	28	19	20	21	22	23	24	25	26	27	28	29	30	31	23	24	25	26	27	28	29	
29	30	31					26	27	28												30						

Май							Июнь							Июль							Август						
ПН	ВТ	СР	ЧТ	ПТ	СБ	ВС	ПН	ВТ	СР	ЧТ	ПТ	СБ	ВС	ПН	ВТ	СР	ЧТ	ПТ	СБ	ВС	ПН	ВТ	СР	ЧТ	ПТ	СБ	ВС
		1	2	3	4	5	6				1	2	3	2	3	4	5	6	7	8			1	2	3	4	5
7	8	9	10	11	12	13	4	5	6	7	8	9	10	9	10	11	12	13	14	15	6	7	8	9	10	11	12
14	15	16	17	18	19	20	11	12	13	14	15	16	17	16	17	18	19	20	21	22	13	14	15	16	17	18	19
21	22	23	24	25	26	27	18	19	20	21	22	23	24	23	24	25	26	27	28	29	20	21	22	23	24	25	26
28	29	30	31				25	26	27	28	29	30	30	31						27	28	29	30	31			

Сентябрь							Октябрь							Ноябрь							Декабрь						
ПН	ВТ	СР	ЧТ	ПТ	СБ	ВС	ПН	ВТ	СР	ЧТ	ПТ	СБ	ВС	ПН	ВТ	СР	ЧТ	ПТ	СБ	ВС	ПН	ВТ	СР	ЧТ	ПТ	СБ	ВС
					1	2	1	2	3	4	5	6	7				1	2	3	4						1	2
3	4	5	6	7	8	9	8	9	10	11	12	13	14	5	6	7	8	9	10	11	3	4	5	6	7	8	9
10	11	12	13	14	15	16	15	16	17	18	19	20	21	12	13	14	15	16	17	18	10	11	12	13	14	15	16
17	18	19	20	21	22	23	22	23	24	25	26	27	28	19	20	21	22	23	24	25	17	18	19	20	21	22	23
24	25	26	27	28	29	30	29	30	31					26	27	28	29	30			24	25	26	27	28	29	30
																					31						

Запиши, на какой день недели приходится эта дата в 2018 году.

Ответ: \_\_\_\_\_

На территории Российской Федерации проживают люди разных национальностей. Как ты думаешь, почему для современного человека очень важно уважительно относиться к традициям разных народов? (Напиши ответ объёмом до пяти предложений.)

Ответ: \_\_\_\_\_

\_\_\_\_\_

\_\_\_\_\_

\_\_\_\_\_

\_\_\_\_\_

\_\_\_\_\_

\_\_\_\_\_

**10** 10.1. Запиши название региона: республики, или области, или края, или города, или автономного округа, в котором ты живёшь.

Ответ: \_\_\_\_\_

Как называется главный город твоего региона?

□ Ответ: \_\_\_\_\_

10.2. Чем наиболее известен твой регион?

Ответ: \_\_\_\_\_

\_\_\_\_\_

Какие растения встречаются в природе твоего региона (укажи не менее трёх растений)? Опиши одно из этих растений. Как это растение используется людьми?

Ответ: \_\_\_\_\_

\_\_\_\_\_

\_\_\_\_\_

\_\_\_\_\_

\_\_\_\_\_

\_\_\_\_\_

\_\_\_\_\_

□