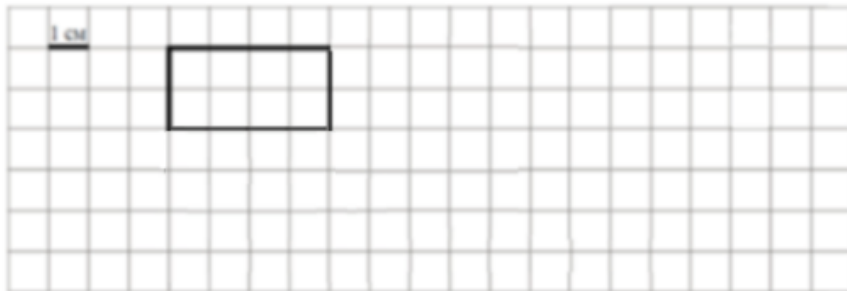


Тренировочный вариант №9 ВПР 2019 по математике 4 класс

1. Найди значение выражения  $86 - 27$ .
2. Найди значение выражения  $18 + 3 \cdot (7 + 23)$ .
3. Рассмотрй рисунок и ответь на вопрос: сколько рублей сдачи получит покупатель, расплатившийся за 3 бублика, 2 пакета молока и 1 пакет масла купюрой в 200 рублей?



4. Репетиция оркестра продолжалась 1 час 40 минут и закончилась в 20:25. В котором часу началась репетиция?
5. На клетчатом поле со стороной клетки 1 см изображён прямоугольник.



- 1) Найди периметр этого прямоугольника. Ответ дай в сантиметрах.
  - 2) На клеточном поле рядом с прямоугольником нарисуй прямоугольник, периметр которого в 2 раза больше периметра данного прямоугольника.
6. Четыре мастерицы плетут кружева. В таблице показано, сколько и каких изделий сплела каждая мастерица за месяц. Используя эти данные, ответь на вопросы.

Мастерица	Воротник	Салфетка	Скатерть
Василиса	7	6	3
Дарья	14	5	6
Зинаида	7	14	0
Марфа	8	16	2

1) Сколько **воротников** и **скатертей** вместе сплела **Дарья**?

2) Кто из мастериц сплёл **больше всего скатертей**?

7. Найди значение выражения  **$96056 : 8 + 35 \cdot 53$** .

8. **Пять килограммов** варенья разложили в банки **по 300 г**, в банки **по 400 г** и в банки **по 500 г**. Банок **по 300 г** оказалось **8** и банок **по 500 г** оказалось **2**.

**Сколько** потребовалось банок **по 400 г**?

Запиши решение и ответ.

9. Перед отпуском Иван Иванович купил горные лыжи, куртку и рюкзак, потратив на эти покупки **21 000 рублей**. **Самая дорогая** покупка стоила 12 000 рублей.

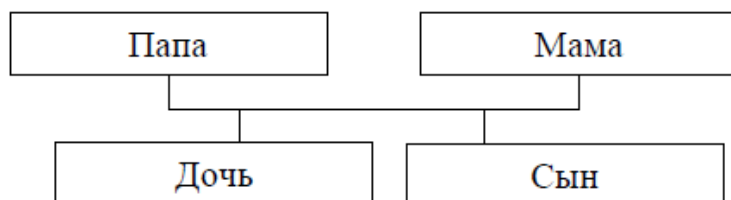
**Самая дешёвая** покупка стоила 3000 рублей. А лыжи и рюкзак вместе стоили на 6000 рублей дороже, чем куртка и рюкзак вместе.

1) Сколько рублей стоили лыжи?

2) Сколько рублей стоила куртка?

10. Родственные связи можно представить в виде схемы. Например, на схеме ниже представлена семья с двумя детьми. Такую схему ещё называют родословное или семейное дерево.

Пример



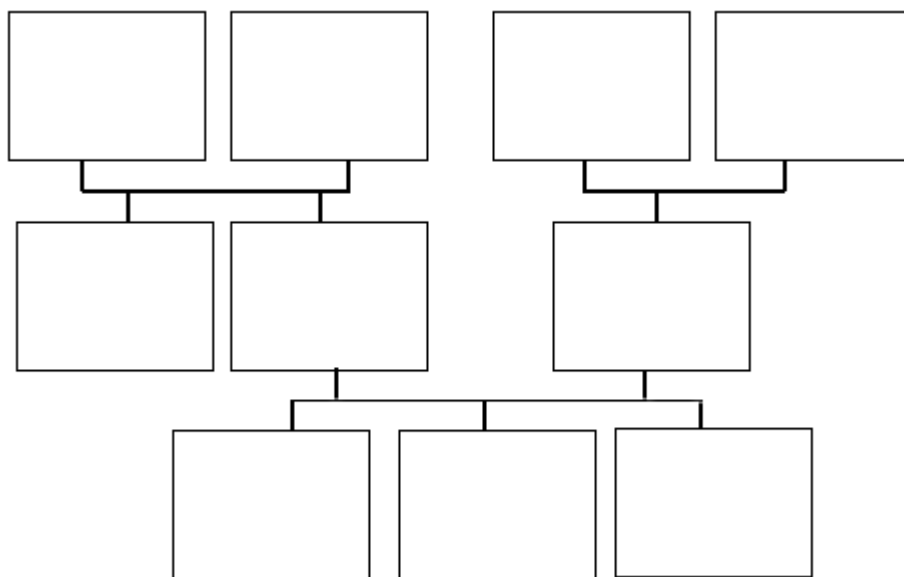
Прочитай текст и изобрази семейное дерево, включающее всех перечисленных в тексте родственников. Впиши в прямоугольники на схеме имена или имена и отчества родственников.

Меня зовут Светлана. Мою маму зовут Юлия Ивановна, она работает технологом на швейной фабрике. Её родители живут далеко от нас, в деревне Нутрома

Тверской области. Бабушка Марина Игнатьевна уже на пенсии, а дедушка Иван Михайлович работает на деревообрабатывающем комбинате. С ними живёт мамин брат дядя Саша, но он поступил в институт и скоро поедет учиться в Тверь. Летом мы ездим к ним в гости.

Моего папу зовут Виталий Владимирович, он водитель автобуса. Когда я была маленькая, мама забирала меня из садика, мы успевали на его рейс и папа довозил нас до дома. Мой дедушка Владимир Миронович тоже работал водителем, но он уже умер. А бабушка Анна Николаевна живёт вместе с нами. Она заботится обо мне и моих братиках Вите и Коле.

Схема для заполнения



11. Поверни слово по образцу: вертолёт

самолёт → самолёт

вертолёт →

12. Ксюша вырезала из бумаги несколько **пятиугольников** и **шестиугольников**. Всего у вырезанных фигурок **49 вершин**. Сколько **пятиугольников** вырезала Ксюша?

Запиши решение и ответ.