


Тренировочный вариант №4 ВПР 2019 по окружающему миру 4 класс

Часть 1

1.1. Рассмотрни рисунок, на котором изображена детская комната. Пол может быть изготовлен из дерева. Он отмечен на рисунке стрелкой с соответствующей надписью.

Покажи на рисунке стрелкой любой предмет (любую деталь) из ткани и любой предмет (любую деталь) из стекла. Подпиши название соответствующего материала рядом с каждой стрелкой.



дерево

2. На интернет-сайтах погоды можно встретить подобные таблицы. Изучи прогноз погоды на трое суток.

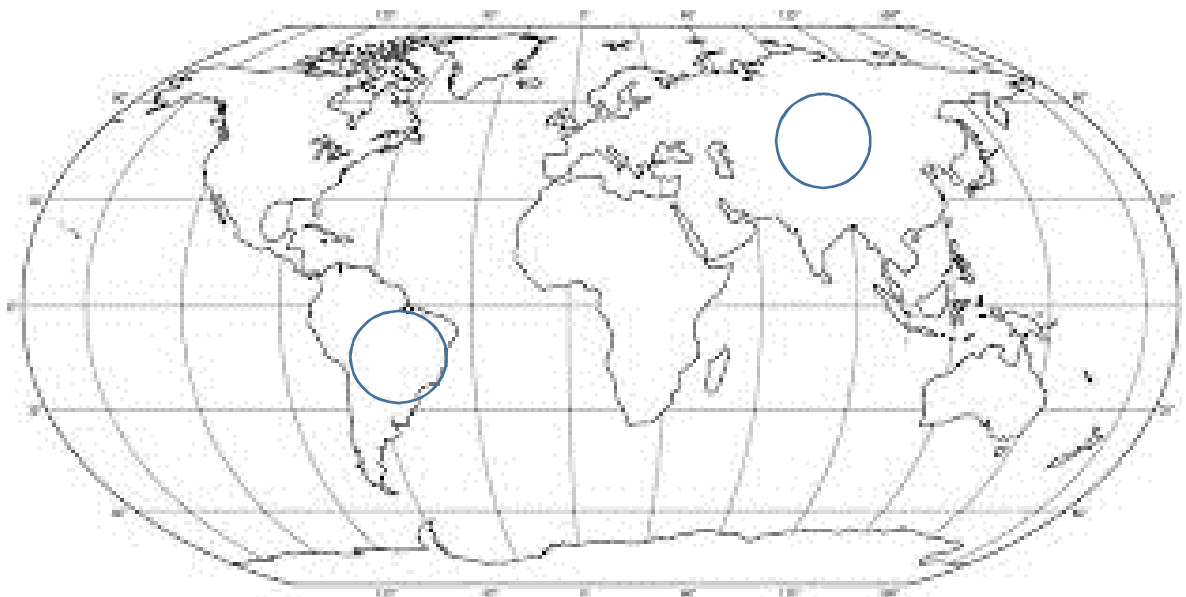
Облачность и атмосферные осадки	Вторник, 19 марта				Среда, 20 марта				Четверг, 21 марта			
	Ночь	Утро	День	Вечер	Ночь	Утро	День	Вечер	Ночь	Утро	День	Вечер
	☀	☀	☀	☀	☁	☁	☁	☁	☁	☁	☁	☁
			ooo	ooo	**	**	☀					
Температура воздуха, °С	-4	-2	+2	-1	-2	+1	+2	+2	+1	0	+2	0
Ветер	↙	↙	↑	↑	↗	↑	↑	↗	→	↘	→	→
	ЮВ	ЮВ	Ю	Ю	ЮЗ	Ю	Ю	ЮЗ	3	СЗ	3	3
Влажность воздуха, %	87	77	78	87	86	88	88	93	97	93	77	85

Выбери верные утверждения об ожидаемой погоде на эти трое суток и запиши в строку ответа их номера.

- 1) В среду температура воздуха будет выше 0 °С.
- 2) В воскресенье в течении дня будет ясная погода.
- 3) Влажность воздуха в четверг будет расти в течении дня.
- 4) В среду ожидаются осадки.

Ответ: _____

3. Рассмотри карту мира. На ней буквами А и Б отмечены два материка.



3.1. Запиши название каждого материка в отведённое для этого поле.
Название материка А : Название материка Б :


3.2. На следующей странице представлены фотографии *ягуара*, *барсука*, *цапли* и *анаконды*. Запиши название каждого из этих животных рядом с номером фотографии, на которой оно изображено.

- | | |
|----------|----------|
| 1) _____ | 2) _____ |
| 3) _____ | 4) _____ |

3.3. Какие из этих животных обитают в естественной среде (не в зоопарке) на материке А, а какие – на материке Б? Запиши **номера** фотографий с изображением этих животных.

Ответ

Материки	А	Б
Животные		



1)



2)



3)



4)



4. Рассмотрите изображение человека. Покажите стрелками и подпишите запястье, предплечье и желудок человека так, как показано на примере.

5. Составь два правила сохранения здоровья человека из приведённых частей фраз: для этого к каждой позиции первого столбца подбери соответствующую позицию из второго столбца.

Начало фразы	Продолжение фразы
А) Для того что бы не простужаться, Б) Для того что бы избежать инфекций гриппа,	1) Одеваться по погоде; 2) Чистить зубы после каждого приема пищи; 3) Соблюдать правила личной гигиены

Запиши в таблицу выбранные цифры под соответствующими буквами.

Ответ:

Начало фразы	А	Б
Продолжение фразы		

6. Однажды Аня решила выяснить, влияет ли температура воды на скорость ее испарения. Для этого она налила в две одинаковые кастрюли одинаковое количество воды. Одну кастрюлю Аня отложила, а вторую поставила на огонь. Через некоторое время вода на огне закипела и постепенно стала уменьшаться в объеме. При этом вода в первой кастрюле зрительно объема не меняла.

6.1. Сравни условия нахождения двух одинаковых растений в описанном опыте. Подчеркни в каждой строке одно из выделенных слов.

Исходное количество воды в ёмкостях: **одинаковое / различное**

Форма ёмкостей: **одинаковая / различная**

Температура воды: **одинаковая / различная**

Часть 2

При выполнении заданий 7–10 последовательно отвечай на каждый из представленных вопросов. Ответы записывай чётко и разборчиво, соблюдая нормы речи.

7. Рассмотрите знаки, изображённые на рисунках, и ответьте на вопросы.

А



Б



В



7.1. Какой из этих знаков можно встретить на дороге?

Ответ:

Какое правило отражает этот знак?

Ответ: _____

7.2. Какие правила отражают два других знака? Запиши ответы в таблицу.

ЗНАК	ПРАВИЛО

8. На фотографиях изображены предметы, с которыми работают представители одной из профессий.

Что это за профессия? Какую работу выполняют люди этой профессии? Чем работа людей этой профессии полезна обществу?

А



Б



В



Ответ: _____

9. День Знаний –главный праздник всех учащихся. В России в 2019 году его отмечают в первое воскресенье сентября. Обведи эту дату в календаре.

2019

Январь							Февраль							Март							Апрель						
ПН	ВТ	СР	ЧТ	ПТ	СБ	ВС	ПН	ВТ	СР	ЧТ	ПТ	СБ	ВС	ПН	ВТ	СР	ЧТ	ПТ	СБ	ВС	ПН	ВТ	СР	ЧТ	ПТ	СБ	ВС
1	2	3	4	5	6				1	2	3			1	2	3					1	2	3	4	5	6	7
7	8	9	10	11	12	13	4	5	6	7	8	9	10	4	5	6	7	8	9	10	8	9	10	11	12	13	14
14	15	16	17	18	19	20	11	12	13	14	15	16	17	11	12	13	14	15	16	17	15	16	17	18	19	20	21
21	22	23	24	25	26	27	18	19	20	21	22	23	24	18	19	20	21	22	23	24	22	23	24	25	26	27	28
28	29	30	31				25	26	27	28				25	26	27	28	29	30	31	29	30					

Май							Июнь							Июль							Август						
ПН	ВТ	СР	ЧТ	ПТ	СБ	ВС	ПН	ВТ	СР	ЧТ	ПТ	СБ	ВС	ПН	ВТ	СР	ЧТ	ПТ	СБ	ВС	ПН	ВТ	СР	ЧТ	ПТ	СБ	ВС
	1	2	3	4	5					1	2			1	2	3	4	5	6	7				1	2	3	4
6	7	8	9	10	11	12	3	4	5	6	7	8	9	8	9	10	11	12	13	14	5	6	7	8	9	10	11
13	14	15	16	17	18	19	10	11	12	13	14	15	16	15	16	17	18	19	20	21	12	13	14	15	16	17	18
20	21	22	23	24	25	26	17	18	19	20	21	22	23	22	23	24	25	26	27	28	19	20	21	22	23	24	25
27	28	29	30	31			24	25	26	27	28	29	30	29	30	31					26	27	28	29	30	31	

Сентябрь							Октябрь							Ноябрь							Декабрь						
ПН	ВТ	СР	ЧТ	ПТ	СБ	ВС	ПН	ВТ	СР	ЧТ	ПТ	СБ	ВС	ПН	ВТ	СР	ЧТ	ПТ	СБ	ВС	ПН	ВТ	СР	ЧТ	ПТ	СБ	ВС
						1	1	2	3	4	5	6				1	2	3							1		
2	3	4	5	6	7	8	7	8	9	10	11	12	13	4	5	6	7	8	9	10	2	3	4	5	6	7	8
9	10	11	12	13	14	15	14	15	16	17	18	19	20	11	12	13	14	15	16	17	9	10	11	12	13	14	15
16	17	18	19	20	21	22	21	22	23	24	25	26	27	18	19	20	21	22	23	24	16	17	18	19	20	21	22
23	24	25	26	27	28	29	28	29	30	31				25	26	27	28	29	30	23	24	25	26	27	28	29	
30																					30	31					

