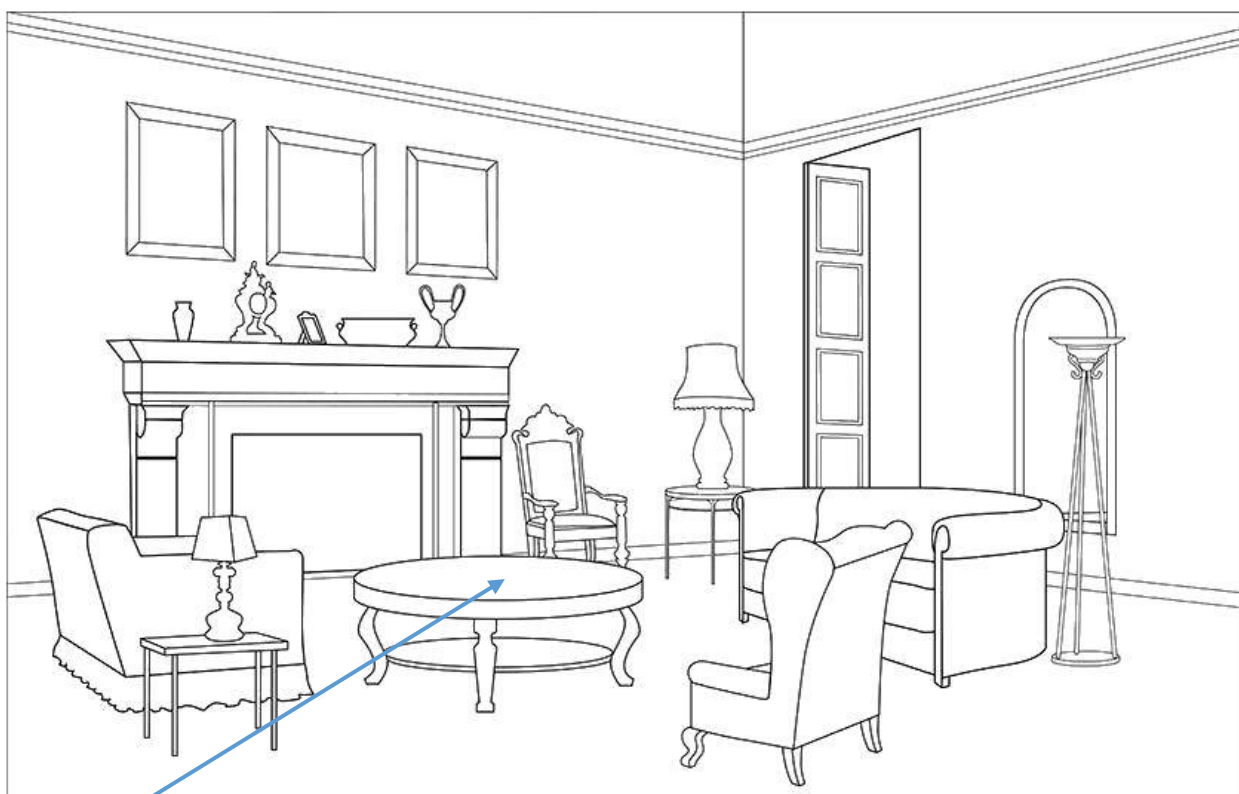


Тренировочный вариант №6 ВПР 2020 по окружающему миру 4 класс

Часть 1

1. Рассмотрите рисунок, на котором изображена гостиная. Журнальный стол может быть изготовлен из дерева. Он отмечен на рисунке стрелкой с соответствующей надписью.

Покажи на рисунке стрелкой любой предмет (любую деталь) из камня и любой предмет (любую деталь) из стекла. Подпиши название соответствующего материала рядом с каждой стрелкой.



Дерево

2. На интернет-сайтах погоды можно встретить подобные таблицы. Изучи прогноз погоды на трое суток.

	Вторник, 3 декабря				Среда, 4 декабря				Четверг, 5 декабря			
	Ночь	Утро	День	Вечер	Ночь	Утро	День	Вечер	Ночь	Утро	День	Вечер
Облачность и атмосферные осадки	☁ *	☁ *	☁ *	☁ *	☁ *	☁ *	☁ *	☁ *	☁ *	☁ *	☁ *	☁ *
Температура воздуха, °С	-3	-4	-4	-5	-6	-5	-5	-5	-5	-2	-2	-1
Направление Ветра	Ю	Ю	Ю	Ю	Ю	ЮВ	ЮЗ	ЮЗ	ЮЗ	Ю	Ю	Ю
Влажность воздуха, %	91	89	89	88	91	90	91	91	91	91	93	93

Выбери верные утверждения об ожидаемой погоде на эти трое суток и запиши в строку ответа их номера.

- 1) В среду температура воздуха не опустится ниже -5°C .
- 2) Во вторник будет дуть юго-западный ветер.
- 3) Влажность воздуха не изменится с вечера среды до утра четверга.
- 4) На протяжении всех трёх суток будет идти легкий снег.

Ответ: _____

3. Рассмотрите карту России. На ней буквами А и Б отмечены две природные зоны.




3.1. Запиши название каждой природной зоны в отведённое для этого поле.

Название природной зоны А : Название природной зоны Б :

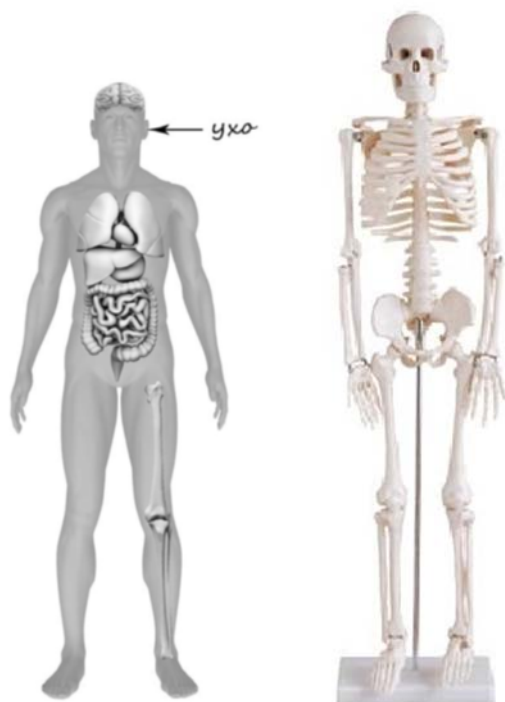
3.2. На следующей странице представлены фотографии оленя, суслика, тюльпана и морозики. Запиши название каждого из этих организмов рядом с номером фотографии, на которой он изображён.

3.3. Какие из этих организмов можно встретить в естественной среде (не в зоопарке и не в ботаническом саду) на территории природной зоны А, а какие – природной зоны Б? Запиши номера фотографий с изображением этих организмов в таблицу под соответствующими буквами.

Природная зона	А	Б
Организмы		



4. Рассмотрите изображение человека. Покажите стрелками и подпишите голень, плечо и кишечник человека так, как показано на примере.



Часть 2

При выполнении заданий 7–10 последовательно отвечай на каждый из представленных вопросов. Ответы записывай чётко и разборчиво, соблюдая нормы речи.

7. Рассмотрите знаки, изображённые на рисунках. Как ты думаешь, где можно встретить каждый из этих знаков?

1- _____

2- _____

3- _____

А

Б

В



Какое правило или какую информацию отражает каждый из этих знаков? Напиши значение каждого знака.

1- _____

2- _____

3- _____

8. На фотографиях изображены предметы, с которыми работают представители одной из профессий. Представители какой профессии работают с изображёнными на фотографиях предметами? Какую работу выполняют люди этой профессии? Чем работа людей этой профессии полезна обществу?



Ответ: _____

9. День матери – международный праздник в честь матерей. В России его официально отмечают в последнее воскресенье ноября.

2020

Январь							Февраль							Март							Апрель							
Пн	Вт	Ср	Чт	Пт	Сб	Вс	Пн	Вт	Ср	Чт	Пт	Сб	Вс	Пн	Вт	Ср	Чт	Пт	Сб	Вс	Пн	Вт	Ср	Чт	Пт	Сб	Вс	
		1	2	3	4	5					1	2							1									
6	7	8	9	10	11	12	3	4	5	6	7	8	9	2	3	4	5	6	7	8	6	7	8	9	10	11	12	
13	14	15	16	17	18	19	10	11	12	13	14	15	16	9	10	11	12	13	14	15	13	14	15	16	17	18	19	
20	21	22	23	24	25	26	17	18	19	20	21	22	23	16	17	18	19	20	21	22	20	21	22	23	24	25	26	
27	28	29	30	31			24	25	26	27	28	29		23	24	25	26	27	28	29	27	28	29	30				
														30	31													
Май							Июнь							Июль							Август							
Пн	Вт	Ср	Чт	Пт	Сб	Вс	Пн	Вт	Ср	Чт	Пт	Сб	Вс	Пн	Вт	Ср	Чт	Пт	Сб	Вс	Пн	Вт	Ср	Чт	Пт	Сб	Вс	
				1	2	3	1	2	3	4	5	6	7			1	2	3	4	5						1	2	
4	5	6	7	8	9	10	8	9	10	11	12	13	14	6	7	8	9	10	11	12	3	4	5	6	7	8	9	
11	12	13	14	15	16	17	15	16	17	18	19	20	21	13	14	15	16	17	18	19	10	11	12	13	14	15	16	
18	19	20	21	22	23	24	22	23	24	25	26	27	28	20	21	22	23	24	25	26	17	18	19	20	21	22	23	
25	26	27	28	29	30	31	29	30						27	28	29	30	31			24	25	26	27	28	29	30	
																					31							
Сентябрь							Октябрь							Ноябрь							Декабрь							
Пн	Вт	Ср	Чт	Пт	Сб	Вс	Пн	Вт	Ср	Чт	Пт	Сб	Вс	Пн	Вт	Ср	Чт	Пт	Сб	Вс	Пн	Вт	Ср	Чт	Пт	Сб	Вс	
					1	2				1	2	3	4						1								1	2
7	8	9	10	11	12	13	5	6	7	8	9	10	11	2	3	4	5	6	7	8	7	8	9	10	11	12	13	
14	15	16	17	18	19	20	12	13	14	15	16	17	18	9	10	11	12	13	14	15	14	15	16	17	18	19	20	
21	22	23	24	25	26	27	19	20	21	22	23	24	25	16	17	18	19	20	21	22	21	22	23	24	25	26	27	
28	29	30					26	27	28	29	30	31		23	24	25	26	27	28	29	28	29	30	31				
														30														

Обведи эту дату в календаре. Запиши, на какое число приходится этот день в 2020 году.

Ответ: _____

Как ты думаешь, почему этот день важен для каждого человека? (Напиши ответ объёмом до пяти предложений.)

Ответ: _____

10.1. Запиши название региона: республики, или области, или края, или автономного округа, в котором ты живёшь.

Ответ: _____

Как называется главный город твоего региона?

Ответ: _____

10.2. Какая река или какое озеро, побережье какого моря или какие горы есть в твоём регионе?

Ответ: _____

Какие природные или культурно-исторические достопримечательности есть в твоём регионе (укажи не менее двух)? Напиши об одной из этих достопримечательностей.

Ответ: _____
