



23

23. Что делает пустынная ящерица-круглоголовка?

- А) Пытается рассмотреть вдали добычу.
- Б) Спасается от жары.
- В) Делает зарядку.
- Г) Спасается от паразитов.
- Д) Пугает врага.

24. Хищные моллюски рапаны, известные многим по сувенирам из их раковин, в настоящее время наиболее активно размножаются в водах ... моря, оказывая неблагоприятное воздействие на его экологию.

- А) Каспийского;
- Б) Чёрного;
- В) Белого;
- Г) Балтийского;
- Д) Охотского.

25. Раньше из этого минерала добывали ...

- А) железо;
- Б) серебро;
- В) алюминий;
- Г) медь;
- Д) золото.



25



26

26. Материалом для создания лубочной живописи – очень распространённого в России XVII–XIX веков вида народного творчества – являлась ...

- А) бумага;
- Б) кора дерева;
- В) папирус;
- Г) пергамент;
- Д) холст.

27. Самый север Евразии занят преимущественно экосистемами ...

- А) степей;
- Б) широколиственных лесов;
- В) тайги;
- Г) тундр;
- Д) пустынь.

28. В разных странах эту крупу, популярную в славянском мире, называют по-разному: арабским или турецким зерном, чёрным рисом, оленьей пшеницей и др. А в России её называют ...

- А) пшеном;
- Б) гречкой;
- В) рисом;
- Г) перловкой;
- Д) овсом.

29. На рисунке VI века изображена ...

- А) свёкла;
- Б) картофель;
- В) батат;
- Г) кольраби;
- Д) репа.

30. Это самая высокая и быстрорастущая трава, широко распространённая в дикой природе Юго-Восточной Азии и имеющая многообразное применение в жизни человека.

- А) подсолнечник;
- Б) бамбук;
- В) банан;
- Г) тростник;
- Д) сорго.

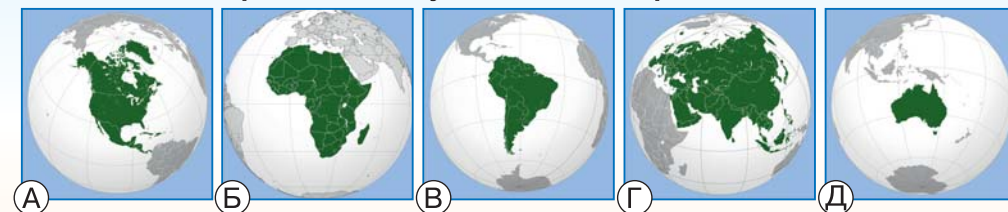


29



Задания, оцениваемые в 3 балла

1. На каком изображении глобуса выделена Евразия?



А

Б

В

Г

Д

2. Какой океан омывает Евразию с юга?

- А) Атлантический;
- Б) Индийский;
- В) Северный Ледовитый;
- Г) Тихий;
- Д) Южный.

3. На какой из этих картин Ивана Ивановича Шишкина изображён смешанный лес?



А

Б

В

Г

Д

4. На территории России граница между Европой и Азией проходит ...


- А) по горам Карпатам;
- Б) по реке Дунай;
- В) по реке Волге;
- Г) по реке Енисей;
- Д) по Уральским горам.

5. У Агнии Барто есть строки:

*Мы в своей тетрадке синей  
Нарисуем все листы*

*И не скажем об осине:  
«Ах, берёза, это ты!»*

На какой картинке изображён лист берёзы?



А

Б

В

Г

Д

Время, отведённое на выполнение заданий, – 45 минут.

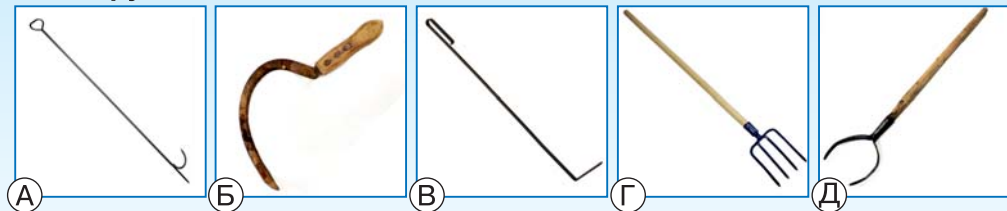
6. Какой гриб не найти в сосновом лесу?

- А боровик; Б груздь; В дубовик; Г волнушка; Д лисичка.

7. Какая горная вершина самая высокая в Евразии?

- А Эверест; Б Чогори; В Эльбрус; Г Монблан; Д Улугмузтаг.

8. На каком рисунке изображён инструмент, важный для приготовления пищи в русской печи?



10

9. Северные олени значительную часть года питаются ягелем. Это ...

- А мхи; Б лишайники; В хвоя;  
Г карликовые березки; Д сено.

10. В каком городе России расположен этот один из крупнейших музеев мира?

- А Москва; Б Великий Новгород;  
В Санкт-Петербург;  
Г Ростов Великий; Д Владимир.

Задания, оцениваемые в 4 балла

11. На рисунке изображён герб города ...

- А Москвы; Б Перми; В Новосибирска;  
Г Красноярска; Д Петропавловска-Камчатского.

12. Волга впадает в Каспийское море, а Енисей — в ...

- А Баренцево море; Б море Лаптевых;  
В Карское море;  
Г Восточно-Сибирское море; Д море Бофорта.

13. На какой фотографии изображён копытень — одно из растений, цветущих весной?




14

14. Эта красивая бабочка широко распространена в Евразии, но сейчас во многих районах редка. Названа она в честь древнегреческого бога ...

- А Аполлона; Б Зевса; В Аида;  
Г Посейдона; Д Гефеста.

15. Этот дикий представитель кошачьих не встречается в России.



16. На пути водного потока Волги отсутствуют ...

- А тундры; Б смешанные леса; В лесостепи; Г степи; Д полупустыни.

17. В строке Александра Сергеевича Пушкина «Меж нив золотых и пажитей зелёных» нива — это ...

- А марка автомобиля;  
Б поле сельскохозяйственных культур;  
В пастбище;  
Г журнал;  
Д название села.


18. Плоды этого растения когда-то часто использовали в пищу (особенно в голодные годы), а местами его разводят и сейчас.

- А кувшинка; Б кубышка; В водяной орех;  
Г айр; Д цицания.



18

19. В разных диалектах русского языка для обозначения молодых домашних животных этого вида среди прочих использовали такие слова: перевозимок, стригун, первопашка.



20. У какой рыбы, широко распространённой вдоль всего побережья Евразии и во внутренних её морях, оба глаза на правой стороне головы?

- А сом; Б налим; В осётр;  
Г камбала; Д карась.



20

Задания, оцениваемые в 5 баллов

21. Полностью в Восточном полушарии располагается ...

- А Казахстан; Б Россия; В Испания; Г Франция;  
Д Соединённое Королевство Великобритании и Северной Ирландии.

22. Рога бывают у самок только этого вида оленей.

- А благородный; Б лось; В косуля; Г пятнистый; Д северный.