

№ 14

Найдите на рисунке несколько изображений животных и аккуратно зачеркните их крестиками.



ОБЯЗАТЕЛЬНО ОТМЕТЬТЕ НАЙДЕННЫХ ЖИВОТНЫХ НА БЛАНКЕ ОТВЕТОВ



№ 15

Разберитесь с условиями выдачи номеров для машин и укажите, какой номер выдадут машине не красного и не белого цвета.

Для красных машин дают номера, в которых все три буквы согласные, и три цифры идут в порядке возрастания или в порядке убывания.
Для белых машин дают номера, в которых хотя бы одна из трёх букв гласная, и, или первая из трёх цифр меньше второй, или вторая больше третьей.

- А - K9670M
- Б - Y642PA
- В - H025CM

№ 16

Используя образец изменения первой фигуры, укажите, как изменится вторая фигура.

ФОРМА:

ЦВЕТ:

НАБОР БУКВ:

Example: →

Example: → ?

Options: 1, 2, 3, 4, 5

№ 17

Решите примеры и укажите, как будет окрашена бабочка, если: чётные числа, делящиеся на три соответствуют жёлтому цвету, нечётные, делящиеся на три - красному, чётные, делящиеся на пять - зелёному, нечётные, делящиеся на пять - розовому.

Подсказка: 472

Examples: $A = 4 + 7 + 2$, $B = 4 - 7 + 2$, $V = 4 + 7 - 2$, $\Gamma = 4 - 7 + 2 - 2$, $\Delta = 4 - 7 + 2 + 2$, $E = 4 + 7 \times 2 - 2 : 2$

Options: 1, 2, 3, 4, 5



3-4-5 классы ТЕТРАДЬ

С ЗАДАНИЯМИ КОНКУРСА

фамилия, имя участника

№ бланка

личный пароль

ВЫДАВАТЬ ДЛЯ РЕШЕНИЯ НА ДОМ ЗАПРЕЩАЕТСЯ!

Внимательно следуйте инструкциям учителя! Выбранные ответы аккуратно зачеркивайте крестиком. Засчитываются только ответы, перенесенные в специальный бланк.

№ 1

В каждой группе из четырех рисунков выберите по одному лишнему.

Group 1: А, Б, В, Г

Group 2: А, Б, В, Г

Group 3: А, Б, В, Г

№ 2

Найдите и зачеркните два одинаковых домика.



№ 3

В какую сторону в аквариуме плавает больше рыбок?



ОТВЕТ: П - направо Л - налево



№ 4

Укажите настоящую тень фермера, собравшегося взять урожай на ярмарку.



№ 9

Что будет видно, если посмотреть на эти три фигуры сверху?



№ 5

Чему равна сумма всех цифр, представленных на картинке?



№ 6

Гирлянда состоит из первых букв слов очень известной пословицы. Какая буква пропущена?



№ 10

Запишите самое длинное слово, которое можно составить из одинаковых букв, которые встречаются в названиях всех картинок.



№ 12


Анаграммы - это слова, составленные из букв других слов, например, НОС - СОН. Разгадайте анаграммы и укажите ту, что скрывает лишнее слово.

- А - ЛИГА
- Б - АКТЁР
- В - ВАЛИК
- Г - АТЛАС
- Д - ОТМЕНА



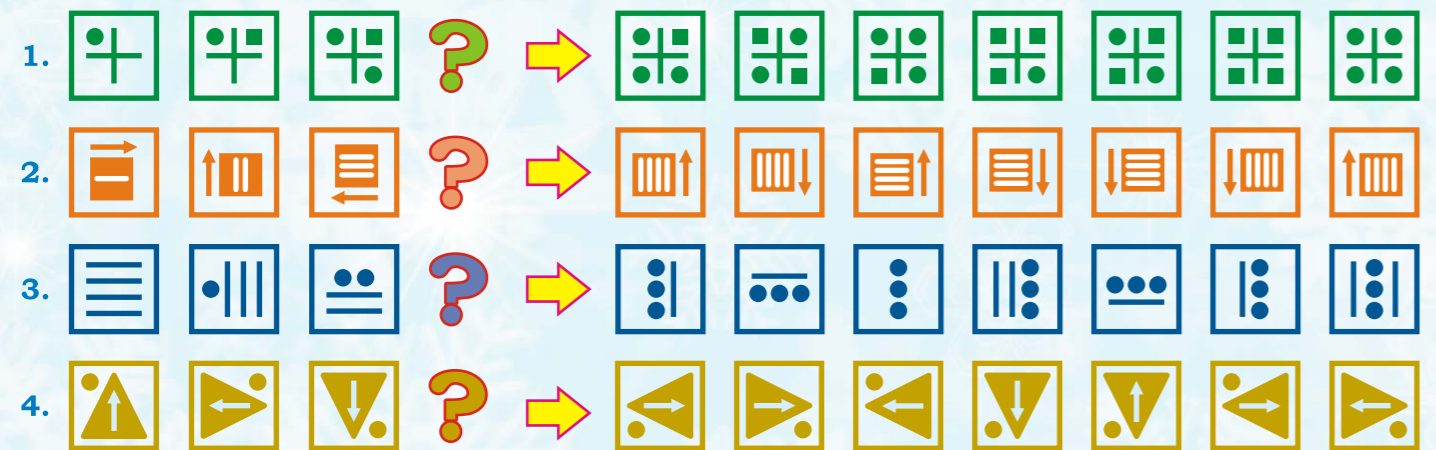
№ 7

Дизайнер Теплов создал варежки, у которых лицевая и внутренняя сторона разные по цвету материала. А орнаменты на обеих сторонах составлены из одинакового числа и одинаковых по форме, но разных по цвету элементов. Отметьте две варежки, которые составляют одну пару.




№ 8

Для каждой группы из трёх фигур выберите из расположенных справа ту, что должна стать следующей и занять место знака вопроса.



№ 11

Какие из обозначенных буквами шестеренок будут вращаться в сторону, противоположную вращению синей шестеренки?



№ 13

Определите, как при сложении двух картинок получается третья. Найдите итоговые картинки, что должны быть на месте букв А и Б.

