

КОД

1 Вычисли: $581 - 34$.

Ответ:	
--------	--

2 Вычисли: $75 : 15 + 84 : 6$.

Ответ:	
--------	--

3 В магазине продаются кондитерские изделия в пачках. На рисунке показаны цены.

Овсяное печенье.....64 руб.



Миндальное печенье...74 руб.




Печенье «Курабье»...131 руб.




Печенье «Юбилейное»...24 руб.




Печенье «Мария».....34 руб.



Зефир.....93 руб.




Крекеры.....28 руб.



Слоёные десерты....128 руб.



Галеты.....46 руб.



Сколько всего рублей надо заплатить за три пачки миндального печенья и одну пачку галет? Запиши решение и ответ.

Решение.	
Ответ:	

4

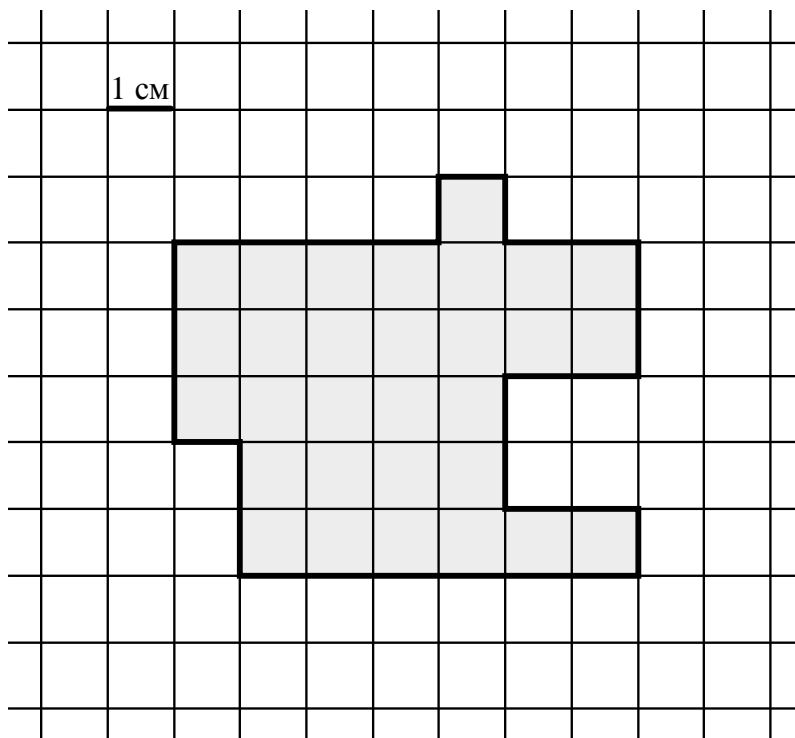
Теннисный матч начался в 12 часов 50 минут и закончился в 14 часов 22 минуты. Сколько времени продолжался теннисный матч?



Ответ:

5

На клетчатом поле со стороной квадратной клетки 1 см изображена фигура.



1) Найди периметр этой фигуры.



Ответ:



2) Изобрази на рисунке выше по клеткам прямоугольник площадью 48 кв. см так, чтобы данная фигура целиком поместилась в этом прямоугольнике (не вылезала за границы).

6

Семиклассница Маша решила контролировать время, проведённое ею за компьютером. В таблице показано, сколько часов Маша провела за компьютером в каждую из трёх недель. Используя эти данные, ответь на вопросы.

	I неделя	II неделя	III неделя
Компьютерные игры	1 ч	4 ч	2 ч
Социальные сети	6 ч	2 ч	3 ч
Школьные домашние задания	2 ч	7 ч	4 ч
Видеоуроки	4 ч	3 ч	1 ч

1) Сколько часов за компьютером Маша выполняла школьные домашние задания на II неделе?

Ответ:																			

2) В какую неделю Маша провела за компьютером наименьшее суммарное время?

Ответ:																			

7

Найди значение выражения $172 \cdot 5 + 140 \cdot 4$.

Ответ:																			

8

Автомобиль ехал 10 мин. и за каждую минуту проезжал 900 м, потом сделал остановку, а потом ехал несколько минут, проезжая за каждую минуту 800 м. Всего он проехал расстояние, равное 13 км. За сколько минут он проехал путь после остановки?

Запиши решение и ответ.

Решение.	
Ответ:	



9

Алексей Юрьевич решил каждый день с понедельника по пятницу заниматься спортом. В понедельник он занимался боксом, во вторник бегал, в среду играл в бадминтон, в четверг снова занимался боксом, в пятницу снова бегал, в понедельник играл в бадминтон. И так он тренировался каждую неделю.

1) Каким видом спорта Алексей Юрьевич займётся в среду на второй неделе?



Ответ:	

2) Сколько раз за первые две недели своих занятий спортом Алексей Юрьевич будет играть в бадминтон?



Ответ:	

10

Лена написала сочинение «Прогулка в парке» и нарисовала план парка.

В субботу мы с подругой Верой решили погулять в парке. Мы зашли в парк со стороны памятника Кулибину и увидели две расходящиеся тропинки. Левая ведёт к кафе «Карлсон», а правая — в центр парка, мимо фонтана к каруселям.

Мы решили сначала зайти в кафе и поесть там мороженого. Сегодня выходной и в кафе много народа, но место нашлось. Мороженое было очень вкусным, в красивых вазочках. Я взяла себе три шарика ванильного, а Вера — клубничное, ванильное и шоколадное. От кафе отходят три аллеи. По самой правой мы пришли, левая идёт к тиру, а центральная — сначала к каруселям, а дальше к кинотеатру «Спутник». Мы пошли к тиру. По дороге мы заглянули на детскую площадку. Там построили новые горки, и мы немного покатались. Особенно мне понравилась голубая горка в форме слона с большими ушами. Мы дошли до тира. Там дорога снова разветвлялась: прямо — к выходу, направо — к кинотеатру. Нам хотелось посмотреть новый фильм, поэтому мы повернули к кинотеатру.

Рассмотри план парка и, пользуясь описанием, которое дала Лена, обозначь цифрами на плане шесть объектов.

1. Кафе «Карлсон».
2. Кинотеатр «Спутник».
3. Детская площадка.
4. Памятник Кулибину.
5. Тир.
6. Карусели.

