

Проверочная работа
по МАТЕМАТИКЕ

4 КЛАСС

Вариант 1

Инструкция по выполнению работы

На выполнение работы по математике даётся 45 минут. Работа содержит 12 заданий.

В заданиях, после которых есть поле со словом «Ответ», запиши ответ в указанном месте.

В заданиях 5 (пункт 2) и 11 нужно сделать чертёж или рисунок. В задании 10 нужно записать ответ, заполнив приведённую форму.

В заданиях, после которых есть поле со словами «Решение» и «Ответ», запиши решение и ответ в указанном месте.

Если ты хочешь изменить ответ, то зачеркни его и запиши рядом новый.

При выполнении работы нельзя пользоваться учебниками, рабочими тетрадями, справочниками, калькулятором.

При необходимости можно пользоваться черновиком. Записи в черновике проверяться и оцениваться не будут.

Советуем выполнять задания в том порядке, в котором они даны. Для экономии времени пропускай задание, которое не удаётся выполнить сразу, и переходи к следующему. Постарайся выполнить как можно больше заданий.

Желаем успеха!

Таблица для внесения баллов участника

Номер задания	1	2	3	4	5(1)	5(2)	6(1)	6(2)	7	8	9(1)	9(2)	10	11	12	Сумма баллов	Отметка за работу
Баллы																	


4

Первый акт спектакля длится 1 ч 30 мин, второй акт длится 1 ч 15 мин. Между первым и вторым актами есть антракт. Спектакль начался в 18 ч 40 мин, а закончился в 21 ч 50 мин. Какова продолжительность антракта?

Ответ:

5


На клетчатой бумаге нарисована фигура. Сторона клетки равна 1 см.



1) Найди периметр этой фигуры. Ответ дай в сантиметрах.

Ответ:

2) Нарисуй по клеточкам квадрат, периметр которого равен периметру этой фигуры.



8

В конце августа родители купили Косте тетради в линейку и тетради в клетку. Тетрадь в клетку стоит 10 рублей. Тетрадь в линейку стоит 9 рублей. За всю покупку заплатили 1400 рублей. Сколько купили тетрадей в линейку, если купили 95 тетрадей в клетку?

Запиши решение и ответ.

Решение.

 Ответ:

9

Маша, Нина и Олег собирали груши. Маша набрала 16 вёдер груш, Олег набрал на 8 вёдер груш меньше, чем Маша и Нина вместе. Один из троих ребят набрал 6 вёдер груш.

1) Сколько вёдер груш набрала Нина?

 Ответ:

2) Сколько всего вёдер груш набрали ребята?

 Ответ:

10

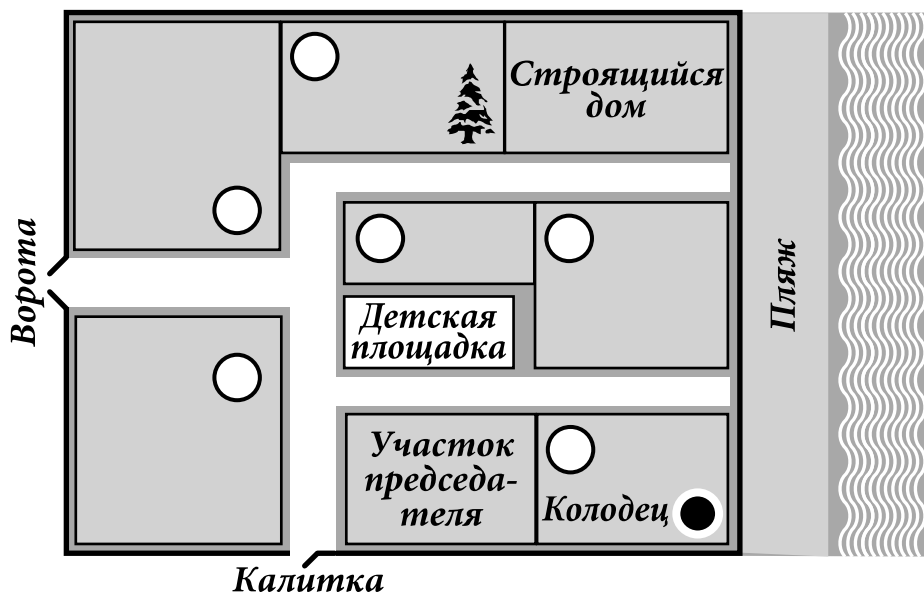
Карина написала сочинение «Наши соседи».

У нас на даче есть речка, и наш посёлок прямо на берегу. К речке можно пройти через калитку мимо участка председателя дачного кооператива. Вышел из калитки — и сразу налево, тут и речка. Мы живём далеко от калитки. Наш дом найти просто — он около ворот. Сразу слева. А рядом с нами участок Варвары Петровны. У неё около дома растёт огромная старая ель. За участком Варвары Петровны строится новый дом, а напротив нового дома живёт на своей даче Павел Иванович. Он доктор, и если кто-нибудь болеет, он всех лечит.

Рядом с участком Павла Ивановича совсем маленький участок. Там домик Анны Петровны. Она очень старенькая, и ей все помогают. У неё даже воды на участке нет, поэтому ей воду носит Максим Олегович из своего колодца. Только у него на участке есть колодец. Зато рядом с домиком Анны Петровны детская площадка с качелями и песочницей. Там играет её внучка Оля. У Оли есть старшая сестра Валя — моя подруга. Только они редко приезжают. А когда приезжают, то живут не у бабушки Анны Петровны, а с папой и мамой в другом доме, тоже около ворот, но справа, а не слева, как мы. У них там новый дом и хороший сад.

Рассмотри план посёлка и, пользуясь описанием, которое дала Карина, обозначь цифрами на плане шесть участков.

1. Участок Варвары Петровны.
2. Участок, где живёт автор сочинения Карина.
3. Участок Анны Петровны.
4. Участок доктора Павла Ивановича.
5. Участок Максима Олеговича.
6. Участок, куда приезжают Оля и Валя с родителями.



11

Поверни слово по образцу:

самолёт



тѐлѝоѝтѝѝ

ВЫХОД



12

За победу футбольная команда получает три очка, за ничью — одно очко и за поражение — ноль очков. В первом туре чемпионата по футболу было сыграно 8 матчей, в которых команды в сумме набрали 19 очков. Сколько в этом туре было сыграно матчей вничью?

Запиши решение и ответ.

Решение.

 Ответ: